



UNIDAD EDUCATIVA PARTICULAR



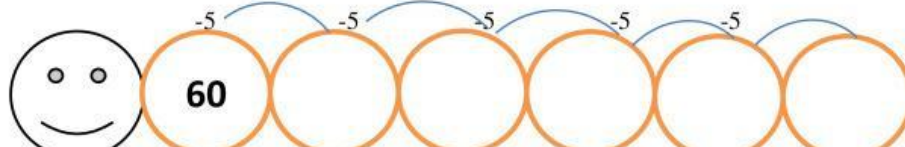
"AMÉRICO VESPUCCIO"

DATOS INFORMATIVOS:				CALIFICACIÓN:
Asignatura:	MATEMÁTICA	Fecha:		
Docente:	Lcda. Evelyn Alvarado Carpio	Grado:	2do. Básica Elemental	
Estudiante:				

2da EVALUACIÓN DEL 3er TRIMESTRE

Actividades en las que se evalúa el nivel de logro de los aprendizajes								CUANTITATIVA	
1.COMPLETA LA TABLA								1 PUNTOS	
NÚMERO	C	D	U	SE DESCOMPONE	SE LEE				
562									
148									
935									
2.ESCRIBE SIGUIENDO LA SECUENCIA								1PUNTO	
832							839		
3. ¿CUÁL ES EL NÚMERO QUE SE DESCRIBE? ESCOGE LA RESPUESTA CORRECTA								1 PUNTO	
<div><div>TIENE 9 U</div><div>TIENE 5 D</div><div>TIENE 7 C</div></div>				<div>A) 975 B) 759 C) 597</div>					
4. UBICA CORRECTAMENTE LAS CANTIDADES Y REALIZA LAS SIGUIENTES SUMAS								2 PUNTO	
<div>246 + 129</div> <div><div><div></div><div></div><div></div><div></div><div></div><div></div><div></div><div></div><div></div></div><div><div></div><div></div><div></div><div></div><div></div><div></div><div></div><div></div><div></div></div></div>				<div>269 + 83</div> <div><div><div></div><div></div><div></div><div></div><div></div><div></div><div></div><div></div><div></div></div><div><div></div><div></div><div></div><div></div><div></div><div></div><div></div><div></div><div></div></div></div>					



5.OBSERVA Y ESCRIBE SI EL EVENTO ES SEGURO O IMPOSIBLE		1 PUNTO																																								
<div><div></div><div></div></div> <div><div>Obtener el número 13 al lanzar un dado</div><div>Obtener 1,2,3,4,5 o 6 al lanzar un dado</div></div> <div><div>A) SEGURO    B) IMPOSIBLE</div><div>A) SEGURO    B) IMPOSIBLE</div></div>																																										
5. Escribe enfrente de cada evento si es imposible o seguro que suceda.		1PUNTOS																																								
<div><div><div>El domingo se va al colegio a estudiar.</div><div>Tener vacaciones al finalizar... el año.</div><div>-Cumplir años cada año.</div><div>- PONERME LA CAMISETA EN LAS PIERNAS</div></div></div>																																										
6.REALIZA LA SIGUIENTE SUSECIÓN DECRECIENTE		1 PUNTO																																								
<div></div>																																										
8. REALIZA LAS SIGUIENTES RESTAS		2 PUNTO																																								
<div><div><table><tr><td></td><td style="background-color: red;">c</td><td style="background-color: blue;">d</td><td style="background-color: green;">u</td></tr><tr><td></td><td></td><td></td><td></td></tr><tr><td></td><td>3</td><td>6</td><td>5</td></tr><tr><td></td><td>1</td><td>2</td><td>7</td></tr><tr><td>—</td><td></td><td></td><td></td></tr></table></div><div><table><tr><td></td><td style="background-color: red;">c</td><td style="background-color: blue;">d</td><td style="background-color: green;">u</td></tr><tr><td></td><td></td><td></td><td></td></tr><tr><td></td><td>5</td><td>8</td><td>3</td></tr><tr><td></td><td>3</td><td>1</td><td>5</td></tr><tr><td>—</td><td></td><td></td><td></td></tr></table></div></div>				c	d	u						3	6	5		1	2	7	—					c	d	u						5	8	3		3	1	5	—			
	c	d	u																																							
	3	6	5																																							
	1	2	7																																							
—																																										
	c	d	u																																							
	5	8	3																																							
	3	1	5																																							
—																																										