


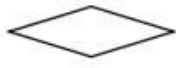


॥ ગણિત પ્રશ્ન બેંક ॥

- (1) નીચેના પૈકી કયું ચિત્ર ઈંટની એક બાજુ દર્શાવે છે ?
- (A)  (B)  (C)  (D) 
- (2) ત્રણ સો, ત્રણ દશક અને સાત એકમ વડે બનતી સંખ્યા કઈ છે ?
- (A) 300 (B) 307 (C) 637 (D) 337
- (3) આપેલ પૈકી કઈ સંખ્યા 10 નો અવયવ છે ?
- (A) 3 (B) 5 (C) 7 (D) 8
- (4) H અક્ષરમાં કેટલા કાટખૂણા રચાય છે ?
- (A) 6 (B) 4 (C) 8 (D) 10
- (5) 800 સેન્ટીમીટર = મીટર.
- (A) 80 (B) 8 (C) 800 (D) 8000
- (6) 10 લિટર = મિલિ થાય ?
- (A) 100 (B) 10 (C) 1000 (D) 10000
- (7) નીચેનામાંથી સૌથી નાની સંખ્યા કઈ છે ?
- (A) 305 (B) 3005 (C) 499 (D) 205
- (8) વચ્ચેની સંખ્યા લખો. 3999 4001
- (A) 3000 (B) 399 (C) 4000 (D) 4999
- (9) શાળાનું ઉનાળું વેકેશન 9 મે ના રોજથી 35 દિવસનું હોય, તો શાળા કઈ તારીખે ખૂલશે?
- (A) 14 જૂન (B) 10 જૂન (C) 13 જૂન (D) 12 જૂન
- (10) મિનિટ કાંટો 3 પરથી ખસીને 8 ઉપર આવે છે. તો મિનિટ કાંટો કેટલી મિનિટ ખસ્યો હશે ?
- (A) 15 મિનિટ (B) 20 મિનિટ (C) 25 મિનિટ (D) 30 મિનિટ
- (11) બે અંકની સૌથી નાનામાં નાની સંખ્યા કઈ છે ?
- (A) 11 (B) 99 (C) 19 (D) 10
- (12) બે અંકની સૌથી મોટામાં મોટી સંખ્યા કઈ છે ?
- (A) 16 (B) 89 (C) 99 (D) 10
- (13) રમેશભાઈ 250 મિલિ દૂધની આઠ થેલી લાવે છે. તો તે કેટલું દૂધ લાવ્યા ગણાય ?
- (A) 2 લિટર (B) 8 લિટર (C) 25 લિટર (D) 4 લિટર