

Nama : _____
No. Urut : _____

**PENILAIAN TENGAH SEMESTER (PTS) GASAL
TINGKAT SEKOLAH DASAR / MADRASAH IBTIDAIYAH
TAHUN PELAJARAN 2023 / 2024**

Tema : 1 (Selamatkan Makhluk Hidup)
Kelas : VI (enam)
Hari / Tanggal :
Waktu :

PETUNJUK UMUM :

1. Tidak disediakan lembar jawab tersendiri.
 2. Jawaban dituliskan langsung pada kolom yang tersedia di naskah soal.
 3. Isikan identitas Kamu di kolom identitas.
 4. Khusus untuk soal pilihan ganda, berilah tanda silang (X) di depan pilihan jawaban A, B, C, atau D yang Kamu anggap benar.
 5. Untuk soal selain pilihan ganda, petunjuk mengerjakan sudah ada pada masing-masing soal.
-

1. Bacalah cerita di bawah ini dan pilihlah satu jawaban yang paling tepat dengan memberi tanda silang (X)!

Dimas mempunyai dua orang sahabat. Mereka berteman sejak sekolah di PAUD sampai sekarang kelas 6 SD. Suatu ketika Dimas pergi berlibur ke rumah nenek. Di rumah nenek ia memetik buah-buahan yang ada di kebun. Dimas memetik banyak buah untuk dibawa ke rumah dan dibagikan kepada sahabatnya. Setelah Dimas kembali ke rumah, ia memanggil kedua sahabatnya dan membagikan buah untuk sahabatnya itu. Dua orang sahabat Dimas mendapatkan buah yang sama. Berdasarkan cerita tersebut, perbuatan yang dilakukan Dimas sesuai dengan sila Pancasila yang berlambang



2. Perhatikan pengamalan sila Pancasila berikut dan pilihlah satu jawaban yang tepat dengan memberi tanda silang (X)!

- 1) Mengakui persamaan derajat, hak, dan kewajiban asasi setiap manusia.
- 2) Menjunjung tinggi nilai-nilai kemanusiaan.
- 3) Menghargai teman yang sedang melakukan ibadah.
- 4) Bangga menggunakan batik.
- 5) Memilih-milih teman dalam bermain.
- 6) Tidak memaksakan agama kepada orang lain.

Sikap lain yang mencerminkan pengamalan sila Pancasila mengembangkan sikap tenggang rasa adalah

- A. 1) dan 6)
- B. 1) dan 2)
- C. 2) dan 4)
- D. 3) dan 6)

3. Pasangkan/jodohkan lambang sila Pancasila berikut dengan penerapan sila Pancasila yang sesuai dengan memberikan tanda panah!



1) Tidak melakukan tindakan yang merugikan kepentingan umum..



2) Toleransi kepada teman yang berbeda keyakinan dengan kita.



3) Mencintai keberagaman yang ada di Indonesia.



4) Memiliki rasa simpati serta empati yang tinggi terhadap teman yang sedang sakit.



5) Berdiskusi dengan teman sekelas saat akan mengambil keputusan.

4. Perhatikan teks berikut dan isilah titik-titik dengan jawaban yang tepat!

Pak Zulkifli seorang kepala desa. Pada suatu hari, beliau memimpin rapat musyawarah desa. Banyak anggota musyawarah yang mengusulkan pendapat dan memberikan tanggapan terkait rapat tersebut. Namun, Pak Zulkifli tidak menghiraukan para anggotanya. Beliau tetap bersikeras dengan pendapat pribadinya.

Sikap Pak Zulkifli sebaiknya

Jawaban:

5. Bacalah teks berikut dan jawablah pertanyaan dengan jelas!

Pada saat liburan semester, Rayanza bersama keluarganya berkunjung ke pasar swalayan. Ia melihat banyak barang-barang yang dijual baik dari dalam negeri maupun luar negeri. Rayanza melihat ada sepatu buatan Amerika dan ia ingin membelinya. Namun, ayah mengajak Rayanza membeli dan memakai produk dalam negeri. Rayanza

pun menuruti apa kata ayah dan ia membeli sepatu lokal yang diproduksi di Bandung. Ternyata, sepatu lokal tersebut tidak kalah bagusya dengan sepatu buatan Amerika. Tulislah 3 tindakan lain yang menunjukkan sikap pengamalan sesuai sila Pancasila tersebut!

Jawaban:
.....
.....

6. Perhatikan paragraf berikut dan pilihlah satu jawaban yang paling tepat!

Tidak bisa dipungkiri, fenomena yang sekarang berkembang adalah anak-anak yang lebih familier dengan cerita Spongebob, Naruto, Frozen, serial Barbie, dan cerita lainnya yang biasa disajikan oleh media televisi. Begitu juga para remaja yang lebih menggemari cerita serial Harry Potter, Batman, Spiderman, daripada cerita daerah seperti Ande-Ande Lumut, Timun Mas, Roro Jonggrang, dan sebagainya. Dalam hal permainan, mereka lebih mengenal Mobile Legend, Free Fire, PUBG, dan game-game lain dari komputer atau PS daripada permainan daerah semisal gobak sodor, engklek, gundu, dakonan, dan lainnya. Gejala ini menunjukkan bahwa budaya luar menjadi kiblat dan makin akrab pada anak dan remaja sekarang ini.

Ide pokok paragraf tersebut adalah

- A. Fenomena yang sekarang berkembang adalah anak-anak yang lebih familier dengan cerita yang disajikan oleh media televisi.
- B. Gejala ini menunjukkan bahwa budaya luar menjadi kiblat dan makin akrab pada anak dan remaja sekarang ini.
- C. Anak-anak lebih menyukai Spongebob, Naruto, Frozen, serial Barbie daripada cerita Ande-Ande Lumut dan Timun Mas.
- D. Remaja saat ini lebih menyukai game Mobile Legend, Free Fire, PUBG, daripada permainan gobak sodor dan engklek.

7. Bacalah teks di bawah ini dan pilihlah dua jawaban yang tepat dengan memberi tanda silang (x)!

Kaktus adalah tumbuhan yang hidup di tempat kering. Tak seperti pepohonan yang keras, kaktus adalah tanaman yang lebih lunak. Hal ini karena batangnya tersimpan air.

Tubuhnya bukan berupa batang kayu yang keras, melainkan batang yang tebal seperti daging. Tubuh ini menggantikan fungsi daun. Di tanaman lain, daun bertugas melakukan fotosintesis. Hampir seluruh spesies kaktus tidak memiliki daun dan melakukan fotosintesis dengan tubuhnya.

Ciri utama yang membedakan kaktus dengan tanaman lainnya adalah duri. Permukaan kaktus dipenuhi pori-pori yang berambut. Di semua spesies kaktus, juga selalu ada duri. Duri ini berguna mengurangi penguapan air. Dengan permukaan yang lebih kecil, maka penguapan juga semakin sedikit.

Informasi penting yang terdapat dalam teks bacaan tersebut adalah

- A. Kaktus memiliki daun untuk fotosintesis.
- B. Kaktus hidup di tempat yang kering.
- C. Kaktus melakukan fotosintesis dengan tubuhnya.
- D. Tidak semua kaktus mempunyai duri.

8. Bacalah teks laporan di bawah ini dan isilah titik-titik dengan jawaban yang tepat!

Ciplukan atau dalam bahasa latin *Physalis angulata* adalah tanaman semak rendah yang memiliki banyak manfaat untuk kesehatan. Ciplukan dipercaya dapat menyembuhkan berbagai penyakit. Seluruh bagian ciplukan dapat mengobati darah tinggi, kolesterol, dan rematik. Akar tanaman ini berkhasiat untuk mengobati penyakit

diabetes mellitus. Buahnya berkhasiat mengobati penyakit paru-paru, sakit tenggorokan, dan stroke. Sedangkan daun ciplukan dapat mengobati tumor dan kanker.

Hal yang dibahas pada teks laporan tersebut adalah

Jawaban:

9. Bacalah teks di bawah ini dan jawablah pertanyaan dengan jawaban yang tepat!

Tumbuhan merupakan sumber kehidupan yang ada di sekitar kita. Tumbuhan memberi banyak manfaat bagi kehidupan manusia. Bagian tumbuhan dapat digunakan sebagai bahan makanan, baik daun buah, maupun bagian lainnya. Tumbuhan dapat membuat udara sejuk karena tumbuhan menghasilkan oksigen. Tumbuhan juga dapat dibuat menjadi perabot rumah tangga dan kerajinan. Selain itu, tumbuhan dapat dibuat menjadi obat untuk menjaga kesehatan manusia.

Tuliskan kesimpulan dari teks di atas!

Jawaban:

.....
.....

10. Bacalah teks di bawah ini dan jawablah pertanyaan dengan jawaban yang tepat!

Komoditas ekspor Indonesia adalah barang-barang yang diperdagangkan oleh Indonesia ke negeri lainnya. Barang-barang ini dapat berupa bahan mentah maupun barang yang sudah jadi dan bermerk. Barang-barang yang diekspor antara lain hasil bumi seperti timah, tembaga, besi, minyak, gas, dan nikel. Selain itu, Indonesia juga menghasilkan pupuk, tapioka, karet, kopi, kelapa sawit, dan tembakau. Ikan tuna, udang, dan the juga diekspor ke negeri lain.

Tuliskan kesimpulan dari teks di atas!

Jawaban:

.....
.....

11. Perhatikan gambar berikut dan jawablah pertanyaan dengan tepat!

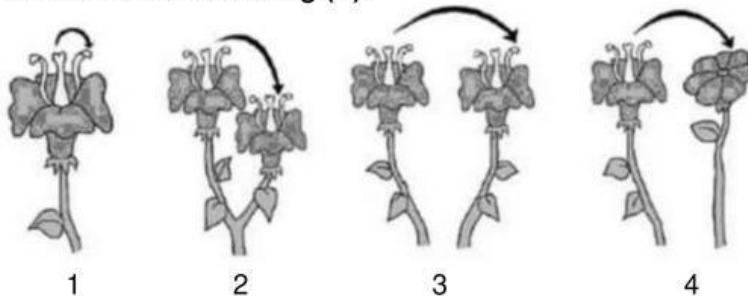


Sebutkan 3 hewan lain yang cara perkembangbiakannya sama dengan hewan di atas!

Jawaban:

.....
.....

12. Perhatikan gambar berikut dan pilihlah satu jawaban yang paling tepat dengan memberikan tanda silang (X)!



1

2

3

4

Penyerbukan silang ditunjukkan oleh gambar

- A. 1
- B. 2
- C. 3
- D. 4

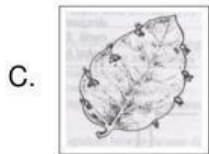
13. Pasangkan/jodohkan gambar perkembangbiakan tumbuhan berikut dengan nama tumbuhan yang sesuai dengan memberikan tanda panah!



1. Rumput teki




2. Lengkuas



3. Mangga



4. Alamanda



5. Cocor bebek

14. Lingkari pernyataan benar atau salah di bawah ini!

No	Pernyataan	Benar atau Salah
1.	Lumba-lumba berkembang biak dengan cara bertelur.	Benar / Salah
2.	Okulasi adalah cara perkembangbiakan tumbuhan dengan menempelkan tunas dari satu tumbuhan ke batang tumbuhan lain.	Benar / Salah
3.	Kelopak bunga merupakan hiasan bunga yang berada paling luar dan berfungsi untuk melindungi kuncup bunga.	Benar / Salah
4.	Wortel merupakan tumbuhan yang berkembang biak dengan cara umbi batang	Benar / Salah

15. Jawablah pertanyaan berikut dengan jawaban yang tepat!

Indonesia kaya akan berbagai jenis hewan dan tumbuhan yang bisa dimanfaatkan oleh manusia untuk memenuhi kebutuhan hidup. Pemanfaatan hewan dapat berupa

daging, bulu, kulit, gading, dan tenaganya. Selain memanfaatkannya, manusia juga harus menjaga kelestariannya.

Jelaskan 2 cara menjaga kelestarian hewan dan tumbuhan agar hewan dan tumbuhan tersebut tidak punah!

Jawaban:
.....
.....

16. Perhatikan pernyataan berikut dan pilihlah satu jawaban yang tepat dengan memberikan tanda silang (X)!

- 1) Mendapat julukan Negeri Gajah Putih.
 - 2) Mendapat julukan Negeri Seribu Pagoda.
 - 3) Merupakan negara penghasil beras terbesar di Asia Tenggara.
- Berdasarkan pernyataan tersebut, negara yang dimaksud adalah
- A. Malaysia
 - B. Indonesia
 - C. Thailand
 - D. Brunei Darussalam

17. Perhatikan gambar berikut dan pilihlah tiga jawaban yang tepat dengan memberikan tanda silang (X)!



Tiga pernyataan di bawah ini yang sesuai dengan ikon negara tersebut adalah

- A. Negara tersebut mengekspor mesin, alat elektronik, dan bahan kimia.
- B. Negara tersebut mempunyai lambang negara, yaitu Merlion.
- C. Negara tersebut tidak pernah dijajah oleh negara Eropa.
- D. Negara tersebut beribukota di Manila.
- E. Tanggal kemerdekaan negara tersebut adalah 9 Agustus 1965

18. Perhatikan teks berikut dan isilah titik-titik dengan jawaban yang tepat!

Aku adalah negara dengan ibukota Dili. Aku mempunyai lagu kebangsaan Patria-Patria. Aku mempunyai luas wilayah 14.874 km². Bahasa yang digunakan adalah bahasa Tetum, Portugis, Inggris, dan Indonesia. Sebagian penduduknya beragama katolik.

Aku adalah negara

Jawaban:

19. Pasangkan/jodohkan bendera negara dengan ibukota negara tersebut dengan memberikan tanda panah!



1. Jakarta



2. Vientiane



3. Hanoi



4. Bangkok

20. Perhatikan gambar berikut!



Jelaskan arti lambang ASEAN pada gambar tersebut!

Jawaban:

.....

.....

.....

.....

.....

.....

21. Perhatikan bahan-bahan berikut dan pilihlah satu jawaban yang tepat dengan memberi tanda silang (X)!

- 1) Balon
- 2) Kertas
- 3) Tanah liat
- 4) Kayu

Bahan yang dapat digunakan untuk membuat karya seni patung ditunjukkan oleh nomor....

- A. 1) dan 2)
- B. 1) dan 3)
- C. 2) dan 3)
- D. 3) dan 4)

22. Perhatikan gambar berikut dan pilihlah satu jawaban yang paling tepat dengan memberi tanda silang (X)!



Bahan yang digunakan untuk membuat patung seperti pada gambar di atas adalah

- A. Kayu
- B. Batu
- C. Tanah liat
- D. Besi

23. Perhatikan gambar berikut dan isilah titik-titik di bawah ini dengan tepat!



Sebutkan alat dan bahan untuk membuat patung seperti gambar di atas!

Jawaban:
.....
.....

24. Jawablah pertanyaan berikut dengan jawaban yang tepat dan jelas!

Pada pembelajaran tema 1, Boy mendapat tugas untuk membuat patung dari bahan lunak dengan bahan yang ada di rumah. Bahan-bahan tersebut antara lain: 2 cangkir tepung terigu, $\frac{1}{2}$ cangkir garam, 2 sendok makan minyak sayur, $1\frac{1}{2}$ cangkir air hangat, dan pewarna makanan. Namun, Boy masih bingung bagaimana langkah-langkah membuat patung tersebut. Ayo, bantu Boy untuk membuat patung tersebut.

Bagaimana langkah-langkah membuat patung dengan bahan yang sudah Boy siapkan?
Jawaban:

.....
.....
.....
.....

25. Perhatikan gambar berikut dan jawablah pertanyaan dengan tepat dan jelas!



Menurutmu, apa fungsi patung di atas?

Jawaban:
.....
.....