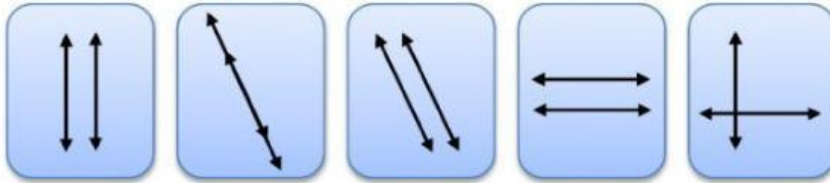


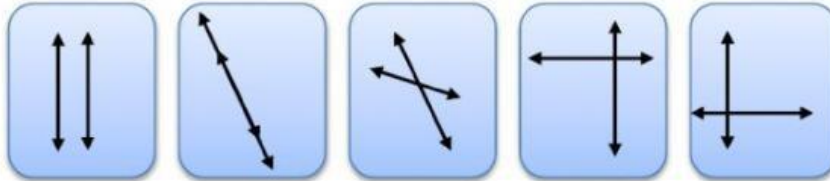
Kerjakan soal berikut dengan jujur!

1. Tentukan (dengan mengklik pada gambar) :

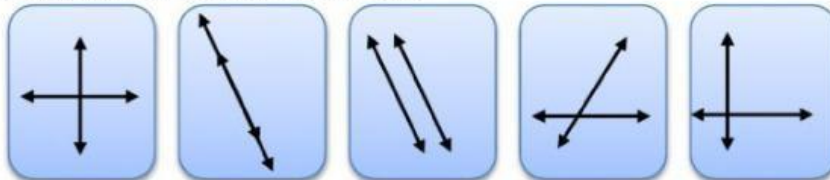
a. Tiga pasang garis yang saling sejajar



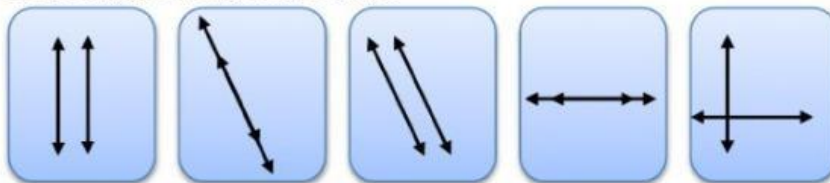
b. Tiga pasang garis yang saling berpotongan




c. Dua pasang garis yang saling tegak lurus



d. Dua pasang garis yang saling berimpit



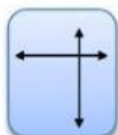
2. Jodohkanlah gambar di bawah ini sesuai dengan nama garisnya! (dengan menarik garis)



Garis berimpit



Garis berpotongan tegak lurus



Garis sejajar



Garis berpotongan