









NOME: \_\_\_\_\_  
 TURMA: \_\_\_\_\_ PROFESSOR(A): \_\_\_\_\_  
 DATA: \_\_\_\_/\_\_\_\_/\_\_\_\_

## FORMAS GEOMÉTRICAS NÃO PLANAS:

ESCREVA O NOME DAS FORMAS GEOMÉTRICAS NÃO PLANAS QUE SE PARECEM COM AS FIGURAS ABAIXO:


NOME: \_\_\_\_\_

TURMA: \_\_\_\_\_ PROFESSOR(A): \_\_\_\_\_

DATA: \_\_\_\_/\_\_\_\_/\_\_\_\_

## FORMAS GEOMÉTRICAS NÃO PLANAS:

LIGUE O NOME DAS FORMAS GEOMÉTRICAS NÃO PLANAS QUE SE PARECEM COM AS FIGURAS ABAIXO:



CONE

BLOCO  
RETANGULAR

CUBO

ESFERA

CILINDRO