

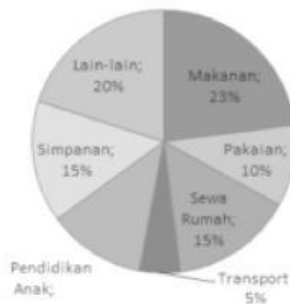


EVALUASI

I. Pilihlah jawaban yang benar dengan menekan a, b, c, d, atau e !

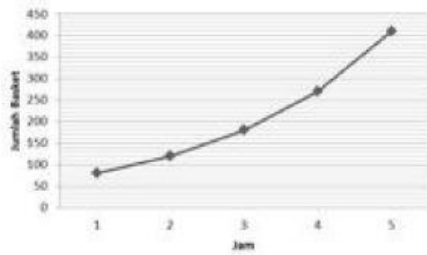
1. Statistika adalah cabang ilmu matematika yang mempelajari tentang seperti berikut, kecuali
 - a. Pencarian Data
 - b. Penyajian Data
 - c. Pengolahan Data
 - d. Penarikan Kesimpulan tentang Data
 - e. Pemborosan Data

2. Data pada diagram berikut menggambarkan persentase alokasi pendapatan suatu keluarga setiap bulannya. Persentase pendapatan keluarga yang dialokasikan untuk pendidikan anak sama dengan

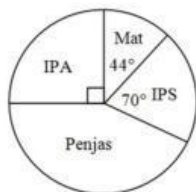


- a. 10%
 - b. 12%
 - c. 13%
 - d. 14%
 - e. 15%

3. Data pada diagram berikut menggambarkan perkembangan sejenis bakteri dalam waktu 5 jam. Dari jam ke-1 sampai jam ke-3 banyak bakteri yang bertambah sama dengan



- a. 85
 - b. 90
 - c. 95
 - d. 100
 - e. 105
4. Data terbagi menjadi 2, yaitu....
- a. Data Kualitatif dan Data Kualitas
 - b. Data Kualitatif dan Data Kuantitatif
 - c. Data Kuadrat dan Data Kuantitatif
 - d. Data Kualitas dan Data Kuadrat
 - e. Data Relatif dan Data Kualitatif
5. Penyajian data dapat disajikan dalam diagram berikut ini, kecuali
- a. Diagram batang
 - b. Diagram garis
 - c. Diagram lingkaran
 - d. Diagram balok
 - e. Ogive
6. Diagram lingkaran berikut menunjukkan tentang kegemaran siswa terhadap mata pelajaran. Jika jumlah siswa seluruhnya 240 orang, maka jumlah siswa yang gemar Penjas adalah

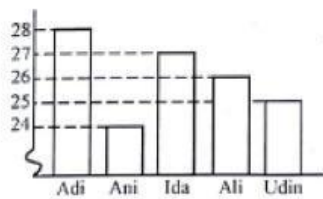


- a. 76 orang
- b. 90 orang
- c. 104 orang

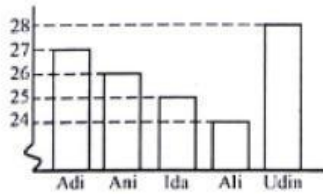
- d. 156 orang
 - e. 100 orang
7. Berikut data berat badan sekelompok siswa kelas VI. Diagram batang dari data tersebut adalah....

Nama Siswa	Berat Badan
Adi	28 kg
Ani	24 kg
Ida	27 kg
Ali	26 kg
Udin	25 kg

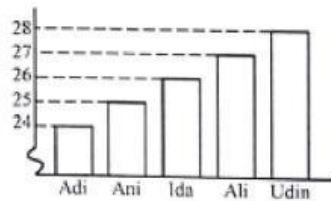
a. a



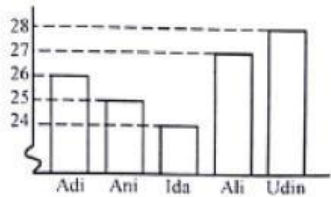
b.




c.



d.



e.



8. Data berikut menyatakan banyak saudara kandung siswa kelas XII IPA-2 :
1, 2, 1, 0, 3, 3, 2, 4, 3, 5, 2, 0, 3, 1, 4, 5, 3, 1, 1, 1, 1, 2, 1, 2, 2, 1, 4, 1, 3, 2. Misal data tersebut disajikan dalam tabel frekuensi berikut. Nilai P sama dengan

Banyaknya Saudara Kandung	Frekuensi
0	2
1	P
2	Q
3	R
4	S
5	T

- a. 6
 - b. 7
 - c. 8
 - d. 9
 - e. 10
9. Data berikut menyatakan banyak saudara kandung siswa kelas XII IPA-2 : 1, 2, 1, 0, 3, 3, 2, 4, 3, 5, 2, 0, 3, 1, 4, 5, 3, 1, 1, 1, 1, 2, 1, 2, 2, 1, 4, 1, 3, 2. Misal data tersebut disajikan dalam tabel frekuensi berikut. Jumlah siswa yang mempunyai saudara kandung lebih dari 2 sama dengan
- a. 10
 - b. 11
 - c. 12
 - d. 13
 - e. 14
10. Diagram garis dibawah ini menunjukkan hasil penjualan komputer dari toko CHI dari Januari hingga April tahun 2014. Persentase kenaikan penjualan dari bulan Maret ke April sama dengan.....
- a. 56,5 %
 - b. 45,5 %
 - c. 36,5%
 - d. 26,5%
 - e. 16,5%