



PENILAIAN TENGAH SEMESTER 2
MADRASAH IBTIDAIYAH HIDAYATUL MUBTADIIN DEMPEL





KELAS 6 TEMA 2 SESI 2
TAHUN PELAJARAN 2020/2021
DS. DEMPEL, KEC. GENENG, KAB. NGAWI

Ayo Kita Simak Video Berikut Ini !



Soal Pilihan Ganda

1. Tumbuhan yang mempunyai batang berongga adalah

- a. 
- b. 
- c. 
- d. 

2. Hewan yang melindungi diri dengan cara menyesuaikan warna kulit dengan lingkungannya adalah

- a. Citah
- b. Kecoa
- c. Kucing

- d. Bunglon
3. Hewan yang dapat dimanfaatkan untuk membuat jaket kulit adalah
- ayam dan sapi
 - sapi dan kerbau
 - bebek dan ayam
 - kambing dan kuda
4. Trenggiling melindungi dirinya dari musuh dengan cara
- memutuskan ekornya
 - menggulungkan tubuhnya
 - mengubah warna kulitnya
 - mengeluarkan bau tidak sedap
5. Duri pada permukaan batang kaktus berfungsi untuk
- sistem reproduksi
 - membuat makanan
 - mengurangi penguapan
 - mempercepat penguapan
6. Salah satu ciri khusus pada pohon bambu adalah
- berakar panjang
 - memiliki bulu halus
 - daunnya sangat tipis
 - memiliki duri di permukaan daunnya
7. Manfaat ciri khusus pada makhluk hidup adalah
- membuat makanan
 - mempertahankan hidup
 - menghasilkan keturunan
 - mempercepat pertumbuhan
8. Tumbuhan yang termasuk xerofit adalah
- venus dan raflesia
 - teratai dan kangkung
 - kaktus dan lidah buaya
 - tumbuhan paku dan lumut
9. Ciri tumbuhan yang mencegah penguapan yang berlebihan adalah
- daun yang lebar
 - batang berongga
 - kulit batang tebal
 - batang berlapis lilin
10. Hewan yang dimanfaatkan tenaganya untuk transportasi adalah

- a. rusa dan sapi
 - b. sapi dan kuda
 - c. kambing dan rusa
 - d. kuda dan kambing
11. Ciri khusus yang dimiliki hewan bertujuan untuk
- a. memperbanyak keturunan
 - b. mempercepat pertumbuhan
 - c. mempercepat perkembangan
 - d. menyesuaikan diri dengan lingkungan
12. Hewan yang dapat menjaga kesuburan tanah adalah
- a. ikan dan cacing
 - b. cacing dan jangkrik
 - c. belalang dan katak
 - d. ulat dan kepompong
13. Ciri khusus yang dimiliki hewan sangat berhubungan dengan
- a. cara bergerak
 - b. tempat hidupnya
 - c. cara mencari makan
 - d. cara berkembangbiakan
14. Pembuatan ban memanfaatkan
- a. kayu karet
 - b. kayu pinus
 - c. getah pinus
 - d. getah karet
15. Ciri khusus yang dimiliki kelelawar adalah
- a. sayap lebar dan penciuman tajam
 - b. sayap tipis dan pendengaran tajam
 - c. sayap tebal dan pengelihan tajam
 - d. sayap pendek dan pengelihan tajam
16. Tugas Sekutu di Indonesia setelah proklamasi kemerdekaan yaitu untuk
- a. menjajah kembali Indonesia
 - b. membantu Jepang yang telah kalah
 - c. membantu Belanda untuk menguasai jajahannya kembali
 - d. melucuti senjata tentara Jepang dan membebaskan tawanan Jepang
17. Proklamasi kemerdekaan bangsa Indonesia merupakan titik
- a. awal perjuangan bangsa Indonesia
 - b. balik perjuangan bangsa Indonesia

- c. akhir perjuangan bangsa Indonesia
 - d. puncak perjuangan bangsa Indonesia
18. Ketua *Dokuritsu Junbi Cosakai* adalah
- a. Ir. Soekarno
 - b. Drs. Moh. Hatta
 - c. dr.Cipto Mangunkusumo
 - d. dr. Radjiman Wedyodiningrat
19. Kebijakan pemerintah dalam bidang ekonomi, yakni Rencana Produksi Lima Tahun oleh menteri urusan bahan makanan pada kabinet Hatta disebut
- a. Plan Kasimo
 - b. Plan Ir. Surachman
 - c. Plan Ishak Cokrohadisuryo
 - d. Plan Sumitro Djojohadikusomo
20. Isi perjanjian Linggarjati merugikan Indonesia karena mempersempit wilayah ... dan mengubah tujuan negara.
- a. RI
 - b. RIS
 - c. NIS
 - d. NIT
21. Di bawah ini negara yang merupakan anggota Komisi Tiga Negara KTN adalah
- a. Jerman
 - b. Prancis
 - c. Inggris
 - d. Belgia
22. Jepang menyerah tanpa syarat kepada Sekutu pada tanggal
- a. 14 Agustus 1945
 - b. 15 Agustus 1945
 - c. 16 Agustus 1945
 - d. 17 Agustus 1945
23. Pemerintah RI pada bulan Oktober 1946 memberlakukan mata uang ORI karena
- a. diberlakukannya uang NICA oleh Belanda
 - b. upaya mengatasi kekacauan ekonomi
 - c. naiknya nilai tukar uang dolar
 - d. terjadinya krisis moneter
24. Pada akhir bulan Juli 1945, Jepang menyetujui pemberian kemerdekaan kepada Indonesia pada tanggal
- a. 16 Agustus 1945
 - b. 17 Agustus 1945

- c. 24 Agustus 1945
 - d. 7 September 1945
25. Bendera merah putih yang pertama berkibar saat proklamasi yaitu bendera
- a. buatan pabrik garmen
 - b. bekas bendera Jepang
 - c. bekas bendera Belanda
 - d. jahitan tangan Ibu Fatmawati