

5rd grade



# MATHEMATICS

## Lembar Kerja Peserta Didik (LKPD)

NAMA : \_\_\_\_\_

No. Absen: \_\_\_\_\_

# Mengenal Sudut dan Mengukur Sudut

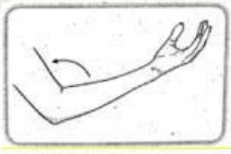
## TP Harian

- Peserta didik mampu menjelaskan jenis-jenis sudut dengan percaya diri
- Peserta didik mampu mengukur besar sudut dengan alat minimal 3 sudut



## Petunjuk Umum

1. Berdo'alah sebelum belajar dan mengerjakan LKPD ini.
2. Tulis nama dan nomor absen pada lembar kerja.
3. Siapkan alat dan bahan yang diperlukan.
4. Lakukan langkah kegiatan sesuai dengan petunjuk pengerjaan dengan cermat dan benar.
5. Teliti kembali sebelum mengumpulkan hasil pekerjaanmu.

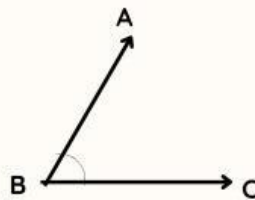
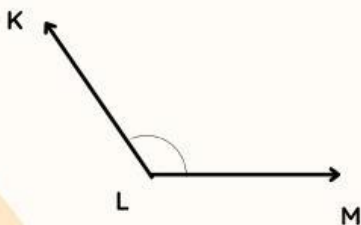
1. Berilah tanda  $>$ ,  $<$ ,  $\leq$ ,  $\geq$  pada sudut yang terbentuk di gambar berikut!



2. Tentukan waktu dan sudut yang terbentuk dari gambar berikut!

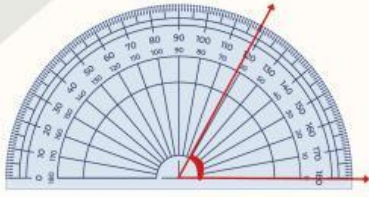


3. Ukurlah dengan busur!

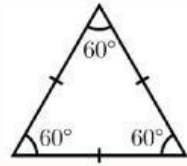




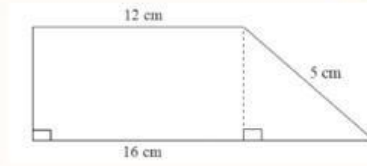
4. Perhatikan gambar A, B dan C berikut untuk menjawab pertanyaan!



A



B



C

Besar sudut gambar A adalah

Jumlah sudut dalam bangun segitiga (Gambar B) adalah

Bangun seperti gambar C memiliki sudut lancip

5. Gambarlah jam berapa kamu berangkat ke sekolah dan hitunglah berapa sudut yang terbentuk!