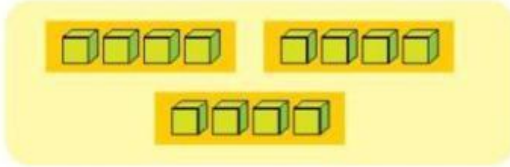


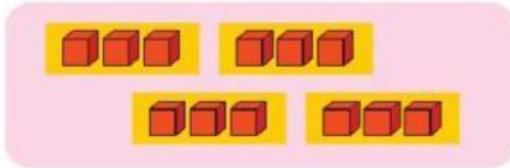
PHIẾU BÀI TẬP VỀ NHÀ THỨ BA TUẦN 19 – LỚP 2A

Tên:

Bài 1. Nối hình với phép nhân phù hợp



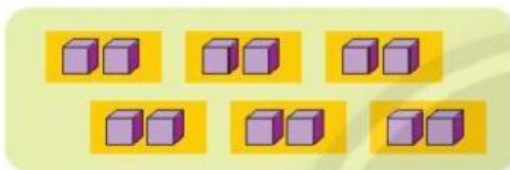
$3 \times 4 = 12$



$6 \times 2 = 12$

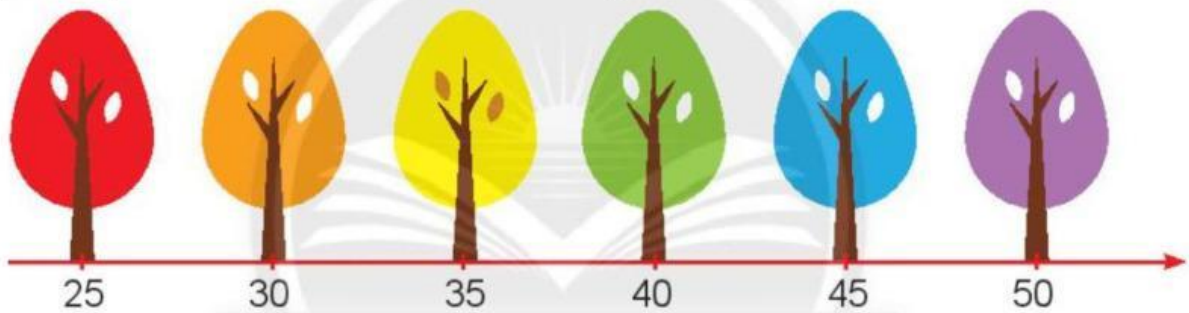


$4 \times 3 = 12$



$2 \times 6 = 12$

Bài 2. Mỗi con chim sẽ bay đến cây nào?



10×4



10×5



10×3



5×5