



E LKPD

PENJUMLAHAN DAN PENGURANGAN BILANGAN CACAH SAMPAI 10.000





Kelas IV Semester Ganjil



NAMA KELOMPOK:



PETUNJUK Pengerjaan

- 
- 
1. Gabunglah bersama kelompok kalian
 2. Kerjakan soal yang ada di halaman berikutnya dengan cara susun panjang
 3. Untuk soal nomor 3-4 temukan soal didalam permainan monopoli yang telah dibagi, gunakan cara susun pendek
 4. Lakukan bersama teman kelompok kalian
 5. Teliti jawaban sebelum dikumpulkan
- 
- 

Jawablah soal dibawah ini!!

1.

Ilustrasi 1 ...





Pak Toni mempunyai pohon jeruk sebanyak 131 pohon di Kota Jember dan 321 pohon di Kota Banyuwangi. Berapakah banyak pohon jeruk Pak Toni seluruhnya?



2.

Seorang Pedagang buah di depan sekolah memikul 2 keranjang buah jeruk. 1 keranjang berisi 3.465 jeruk dan keranjang yang lain berisi 1.592 jeruk. Berapakah selisih banyak jeruk di dalam kedua keranjang yang dipikul oleh pedagang tersebut?



Mainkan monopoli yang diberikan, kemudian kerjakan dengan menjawab di kolom bawah ini...

1.

$$\text{_____} + \text{_____} = \text{_____}$$

2.

$$\text{_____} + \text{_____} = \text{_____}$$

3.

$$\text{_____} + \text{_____} = \text{_____}$$

4.

$$\text{_____} + \text{_____} = \text{_____}$$



Mainkan monopoli yang diberikan, kemudian kerjakan dengan menjawab di kolom bawah ini...

1.

$$\text{[Blank]} - \text{[Blank]} = \underline{\hspace{2cm}}$$

2.

$$\text{[Blank]} - \text{[Blank]} = \underline{\hspace{2cm}}$$

3.

$$\text{[Blank]} - \text{[Blank]} = \underline{\hspace{2cm}}$$

4.

$$\text{[Blank]} - \text{[Blank]} = \underline{\hspace{2cm}}$$