

A. 读一读, 写出数字或文字。 (8%)

	数字	文字
1.	5 739	
2.	4 086	
3.		一千四百六十
4.		二千零七

B. 根据分数涂上颜色。 (8%)


①  $\frac{7}{8}$




②  $\frac{2}{3}$



③  $\frac{9}{10}$



④  $\frac{4}{7}$



C. 写出等值分数。 (6%)

①  $\frac{1}{2} = \frac{(\quad)}{4}$

②  $\frac{2}{5} = \frac{(\quad)}{10}$

③  $\frac{1}{3} = \frac{(\quad)}{9}$

④  $\frac{2}{4} = \frac{4}{(\quad)}$

⑤  $\frac{4}{5} = \frac{(\quad)}{10}$

⑥  $\frac{1}{4} = \frac{(\quad)}{8}$

D. 圈出正确的最简分数。 (4%)

①  $\frac{3}{9} =$   $\frac{1}{2}$     $\frac{1}{3}$     $\frac{1}{4}$

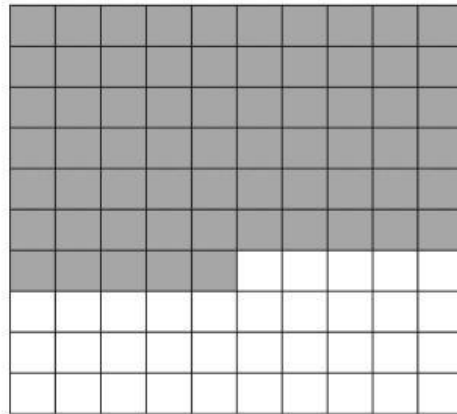
②  $\frac{4}{6} =$   $\frac{2}{3}$     $\frac{2}{5}$     $\frac{2}{7}$

③  $\frac{6}{10} =$   $\frac{1}{5}$     $\frac{2}{5}$     $\frac{3}{5}$

④  $\frac{2}{4} =$   $\frac{1}{2}$     $\frac{1}{3}$     $\frac{1}{4}$

E. 填

写涂黑部分占全图的百分数、小数和百分比。 (6%)



百分数	_____
小数	
百分比	

F. 进行换算。 (6%)

1. 2 小时 = \_\_\_\_\_ 分钟

2. 240 秒 = \_\_\_\_\_ 分钟

3. 4 m 18 cm = \_\_\_\_\_ cm

4. 8 kg = \_\_\_\_\_ g

5. 4 个星期 = \_\_\_\_\_ 天

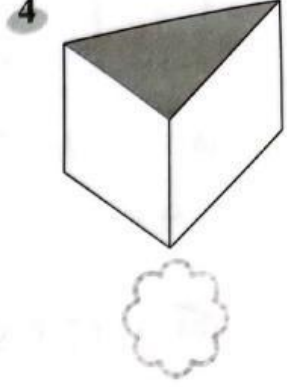
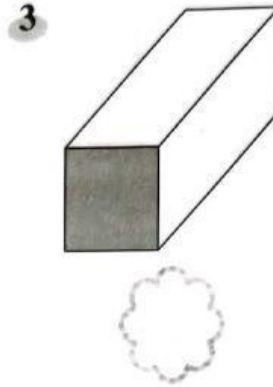


6. 3 537 ml = \_\_\_\_\_ l \_\_\_\_\_ ml

G. 写出代表棱柱体的名称的英文字母。 (4%)

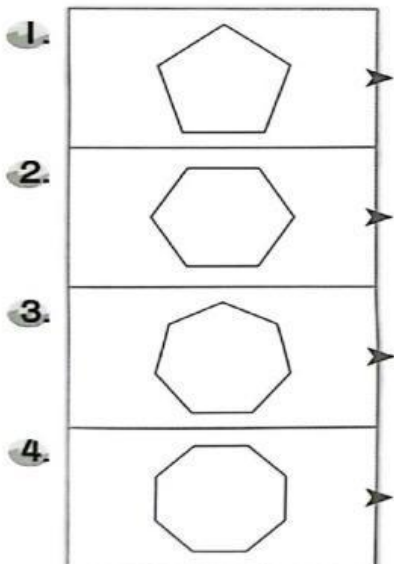
X 正方棱柱体

Y 长方棱柱体

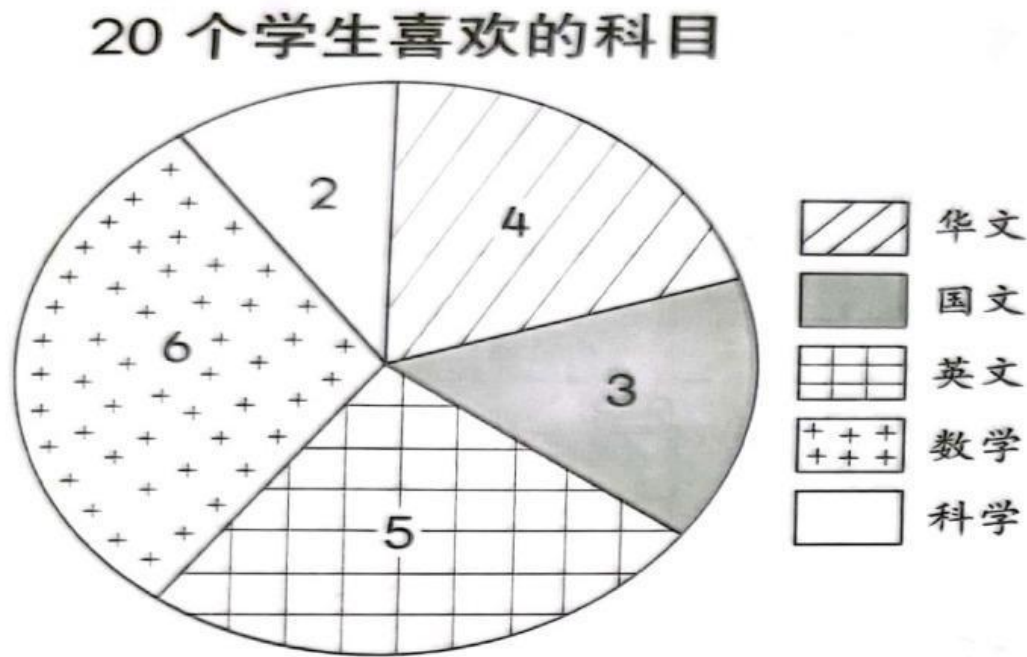
Z 三角棱柱体



H. 根据多边形的特征，画线连一连。 (4%)



1. 根据饼分图，填写正确的答案。（10%）



① 有 \_\_\_\_\_ 个学生喜欢华文。

② 有 \_\_\_\_\_ 个学生喜欢数学。

③ 最多学生喜欢的科目是 \_\_\_\_\_。

④ 最少学生喜欢的科目是 \_\_\_\_\_。

⑤ 喜欢数学的学生人数比喜欢科学的学生人数多 \_\_\_\_\_ 个。

J. 根据下图，回答问题。（12%）

7			苹果				
6					杨桃		
5	梨			木瓜			西瓜
4		芒果				榴梿	
3					橙		
2				香蕉			
1							柠檬
	A	B	C	D	E	F	G

1. 位于第 4 列，第 2 行的水果是什么？

2. 位于第 5 列，第 6 行的水果是什么？

3. 位于 E3 的水果是什么？

4. 位于 A5 的水果是什么？

5. 写出以下水果的位置。

(a) 西瓜：

(b) 苹果：

K. 计算下列各题。 (20%)

<p>1) <math>3\ 281 + 1\ 526 - 2\ 058</math> =</p> $\begin{array}{r} 3\ 2\ 8\ 1 \\ +\ 1\ 5\ 2\ 6 \\ \hline \\ -\ 2\ 0\ 5\ 8 \\ \hline \\ \hline \end{array}$	<p>2) <math>\frac{7}{8} - \frac{5}{8} = -</math>  <math>= -</math></p>																		
<p>3) <math>\frac{1}{3} + \frac{1}{6} = - + -</math>  <math>= -</math>  <math>= -</math></p>	<p>4) <math>0.76 + 0.09 =</math></p> $\begin{array}{r} 0 . 7 6 \\ +\ 0 . 0 9 \\ \hline \\ \hline \end{array}$																		
<p>5) <math>RM580 \div 5 =</math></p> $5 \overline{) RM\ 5\ 8\ 0}$ <p>_____</p> <p>_____</p> <p>_____</p>	<p>6) 2 小时 27 分钟 + 1 小时 36 分钟 =</p> <table style="margin-left: auto; margin-right: auto;"> <thead> <tr> <th></th> <th>小 时</th> <th>分 钟</th> </tr> </thead> <tbody> <tr> <td></td> <td style="text-align: center;">2</td> <td style="text-align: center;">27</td> </tr> <tr> <td style="text-align: right;">+</td> <td style="text-align: center;">1</td> <td style="text-align: center;">36</td> </tr> <tr> <td></td> <td colspan="2" style="border-top: 1px solid black; text-align: center;">_____</td> </tr> <tr> <td></td> <td colspan="2" style="border-top: 1px solid black; text-align: center;">_____</td> </tr> <tr> <td></td> <td colspan="2" style="border-top: 1px solid black; text-align: center;">_____</td> </tr> </tbody> </table>		小 时	分 钟		2	27	+	1	36		_____			_____			_____	
	小 时	分 钟																	
	2	27																	
+	1	36																	
	_____																		
	_____																		
	_____																		

<p>7) 4 X 6 小时 45 分钟</p> <p>=</p> <p>    小 时          分 钟</p> <p>        6            4 5</p> <p>×                    4</p> <hr/> <hr/> <hr/>	<p>8) 8m 40cm ÷ 7</p> <p>=</p> <p>7 ) 8 m                    4 0 c m</p> <p>    _____</p> <p>        _____</p> <p>          _____</p> <p>              _____</p>
<p>9) 6kg 200g - 500g</p> <p>=</p> <p>    k g            g</p> <p>        6        2 0 0</p> <p>-              5 0 0</p> <hr/> <hr/>	<p>10) 6 X 3 l 280 ml =</p> <p>                  l                    ml</p> <p>  6</p> <p>-          3                    2 8 0</p> <hr/> <hr/> <hr/>

**L. 应用题。 (12%)**

<p>1.</p>	<p>林先生和两个朋友各捐了RM1 800给一家养老院。他们共捐了多少钱?</p> <div style="border: 1px solid black; width: 300px; height: 40px; margin: 10px 0;"></div> <div style="border: 1px solid black; padding: 10px; margin: 10px 0;"> <p style="text-align: right; margin: 0;">3</p> <p>× R M 1 8 0 0</p> <hr style="border: 0; border-top: 1px solid black; margin: 5px 0;"/> <hr style="border: 0; border-top: 1px solid black; margin: 5px 0;"/> </div> <p>答：共捐了_____。</p>	<p style="text-align: center; margin: 0;">1</p> <div style="border: 1px solid black; width: 40px; height: 20px; margin: 0 auto; display: flex; align-items: center; justify-content: center;"> <span style="border: 1px solid black; padding: 2px;">3</span> </div>
-----------	--	---

2. 袋子里原有 0.8kg 肥料。花农用了 0.38kg 肥料来施肥后，袋子里剩下多少 kg 肥料？

0	.	8	0	k	g
-	0	.	3	8	k

答：\_\_\_\_\_ kg 肥料。

**2**

3
---

3. 慧琳的身高是 1m 25cm，明华比她高 9cm。明华的身高是多少 m 和 cm？

	m	c	m
	1	2	5
+			9

答：身高是 \_\_\_\_\_。

**3**

3
---

4. 叔叔从星期一至星期六共工作了 54 小时。他平均每天工作多少小时？

6	√	5	4	小	时

答：\_\_\_\_\_ 小时。

**4**

3
---