




LA DIVISIONE DI RIPARTIZIONE

-  Taglia la torta in 4 fette, in modo che su ogni fetta ci sia lo stesso numero di ciliegie, e completa lo schema.






numero di tutte le ciliegie	numero delle fette	numero delle ciliegie su ogni fetta
↓	↓	↓
.....	: =

-  Leggi il testo e completa.


Gaia voleva piantare 15 bulbi di tulipano in 3 fioriere, in modo che in ogni fioriera ci fosse lo stesso numero di bulbi.

Ma quando i fiori sono spuntati si è accorta di avere commesso degli errori. Aiutala tu a distribuirli in modo corretto: cancella con una **X** dove sono di più e disegna dove mancano.



- Quanti tulipani?
- Quante fioriere?
- Quanti tulipani in ogni fioriera?
- Scrivi la divisione : =

-  Suddividi i bambini in modo da formare 2 squadre, ciascuna con lo stesso numero di giocatori. Poi colora i cappellini di ciascuna squadra in modo diverso.



- Quanti bambini?
- Quante squadre?
- Quanti bambini per ogni squadra?
- Scrivi la divisione : =