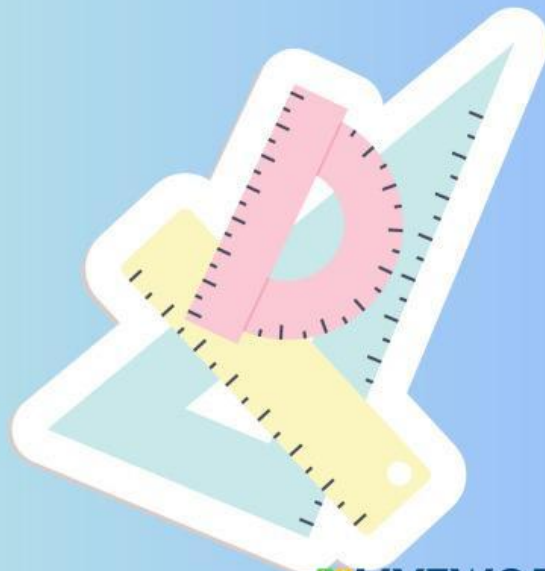



LKPD

Matematika

Penjumlahan 1-28






CP : Peserta didik dapat melakukan operasi penjumlahan dan pengurangan menggunakan benda-benda konkret yang banyaknya sampai 20.


Tujuan :

1. Melalui berdiskusi peserta didik mengetahui angka 1-20.
2. Melalui berdiskusi peserta didik dapat memahami operasi penjumlahan.
3. Melalui berdiskusi peserta didik dapat melakukan operasi penjumlahan dengan benda konkret.

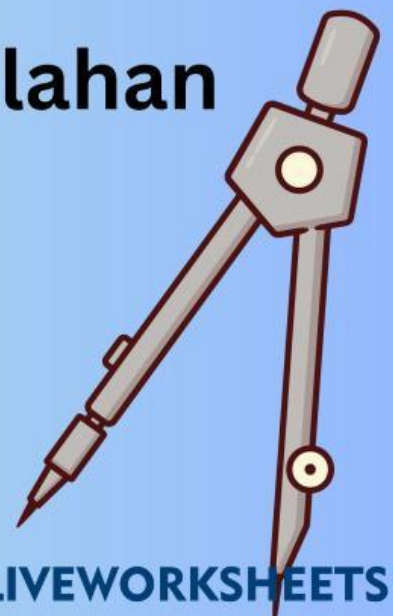




Perhatikan Video di bawah ini



Konsep Penjumlahan Bilangan





LKPD

Penjumlahan Bilangan

Isilah titik-titik di bawah ini dengan benar!!

1



Berapa Hasil Penjumlahan di atas

2



Berapa Hasil Penjumlahan di atas

3

Hasil dari $6 + 5 =$

4

Berilah ☒ Pertanyaan yang benar adalah

☐ $6 + 4 = 9$

☐ $7 + 4 = 11$

☐ $10 + 1 = 11$





LKPD



Penjumlahan Bilangan

Isilah titik-titik di bawah ini dengan benar!!

5 Hasil dari $8 + 5 =$



Hasil dari penjumlahan di atas adalah

☐ 6 ☐ 7 ☐ 8



7 Hasil dari $2 + 6 =$

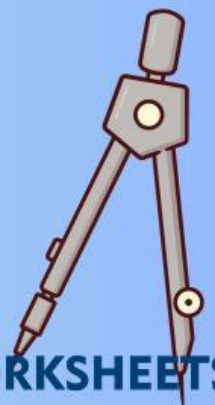


Hasil dari penjumlahan di atas adalah

☐ 6 ☐ 7 ☐ 8

9 Hasil dari $12 + 2 =$

10 Hasil dari $10 + 2 =$





Biodata Diri



Nama : Megalena Anggraheni

Nama Panggilan : Mega

NPM : 23530355

Kelas : PPG Prajabatan PGSD J 2023

Universitas PGRI Semarang

