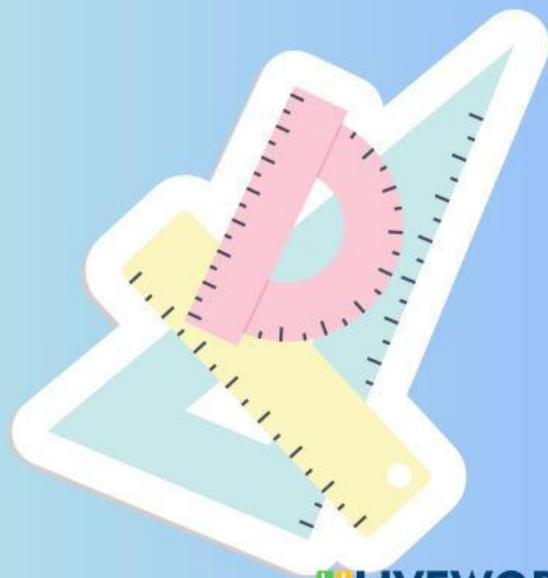
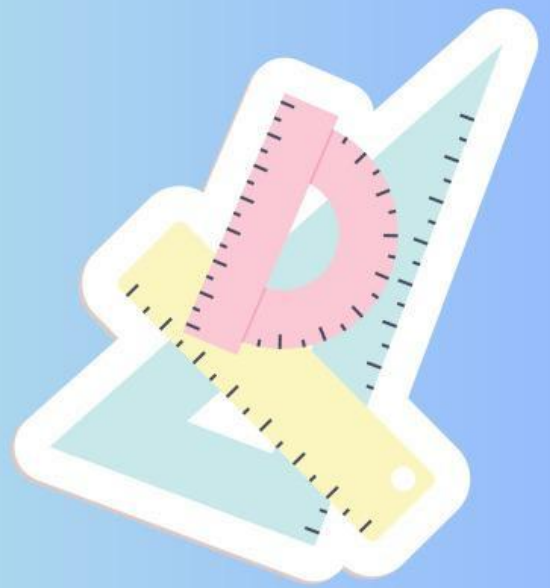


# LKPD

## Matematika Penjumlahan 1-18

Nama :







CP : Peserta didik dapat melakukan operasi penjumlahan dan pengurangan menggunakan benda-benda konkret yang banyaknya sampai 20.

Tujuan :

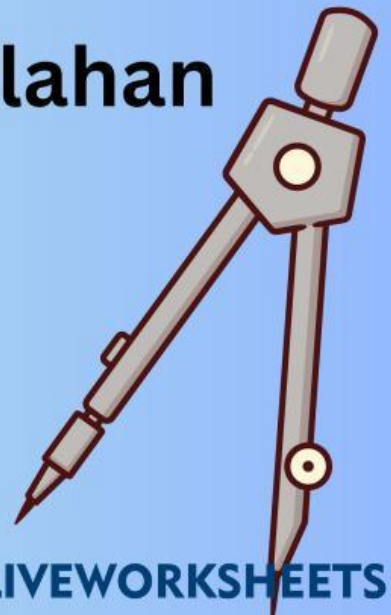
1. Melalui berdiskusi peserta didik mengetahui angka 1-20.
2. Melalui berdiskusi peserta didik dapat memahami operasi penjumlahan.
3. Melalui berdiskusi peserta didik dapat melakukan operasi penjumlahan dengan benda konkret.




Perhatikan Video di bawah ini



## Konsep Penjumlahan Bilangan























Nama: \_\_\_\_\_

Kelas: \_\_\_\_\_

# Penjumlahan dengan Jari Tangan

Perhatikan gambar berikut ini ikutilah sesuai gambar lalu hitunglah jari tangan yang masih berdiri tegak!

 $+$   
  $+$    $=$   $+$   
  $+$    $=$   $+$   
  $+$    $=$   $+$   
  $+$    $=$   $+$   
  $+$    $=$   $+$   
  $+$    $=$   $+$   
  $+$    $=$   $+$   
  $+$    $=$  

Nama :

Kelas :

# Ayo bermain dengan gambar dibawah ini

Lihatlah gambar bunga di bawah ini. Hitung dan tuliskan jumlah bunga dalam setiap pot.



$$1 + 2 = \dots\dots\dots$$



$$1 + 1 = \dots\dots\dots$$



$$3 + 2 = \dots\dots\dots$$



$$4 + 1 = \dots\dots\dots$$



$$2 + 3 = \dots\dots\dots$$



# Biodata Diri



Nama : Megalena Anggraheni

Nama Panggilan : Mega

NPM : 23530355

Kelas : PPG Prajabatan PGSD J  
2023

Universitas PGRI Semarang

