


Nome: _____ Data: ___/___/___


 - Contas as figuras geométricas dos guarda-chuvas.









$___ + 6 + ___ = _____$


$5 + ___ + ___ = _____$


$5 + ___ + ___ = _____$


 Observa o exemplo e indica a posição de cada imagem.


| | 1 | 2 | 3 | 4 | 5 | 6 |
|---|---|---|---|---|---|---|
| A | |  | | |  | |
| B | | | | | |  |
| C | | |  | | | |
| D | | | |  | | |
| E |  | | | | | |


 → A, 2


 →

 →

 →


 →

 →

 Completa as sequências.


$2 + 4 + 6 + \square + \square + \square + \square + \square + \square + 20$

$19 + 17 + 15 + \square + \square + \square + \square + \square + \square + 1$

 Completa os quadros.

| Antes | | Depois |
|-------|----|--------|
| | 12 | |
| | 16 | |
| | 14 | |
| | 17 | |

| Antes | | Depois |
|-------|----|--------|
| | 18 | |
| | 13 | |
| | 15 | |
| | 19 | |

 Completa os quadro.

| Número | Dezenas D | Unidades U | Leitura |
|--------|--------------|---------------|------------------------|
| 11 | 1 | 1 | 1 dezena e 1 unidade. |
| 12 | | | |
| 13 | | | |
| 14 | | | |
| | 1 | 5 | |
| | 1 | 6 | |
| | | | 1 dezena e 7 unidades. |
| | | | 1 dezena e 8 unidades. |
| | | | 1 dezena e 9 unidades. |

COMPLETE A SEQUENCIA NUMÉRICA

| | | | | |
|----------------------|----------------------|----------------------|----------------------|----------------------|
| 1 | <input type="text"/> | 3 | <input type="text"/> | 5 |
| 6 | <input type="text"/> | <input type="text"/> | 9 | <input type="text"/> |
| 11 | 12 | <input type="text"/> | 14 | <input type="text"/> |
| <input type="text"/> | 17 | <input type="text"/> | <input type="text"/> | 20 |