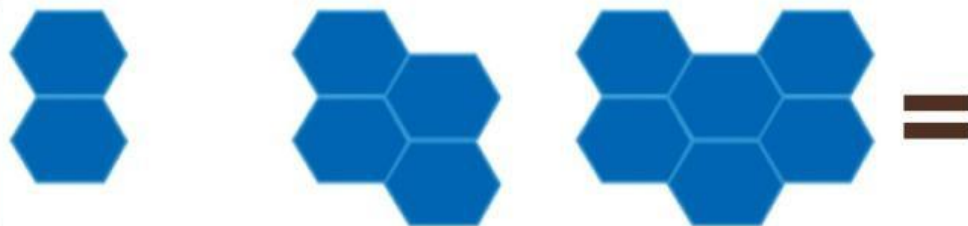
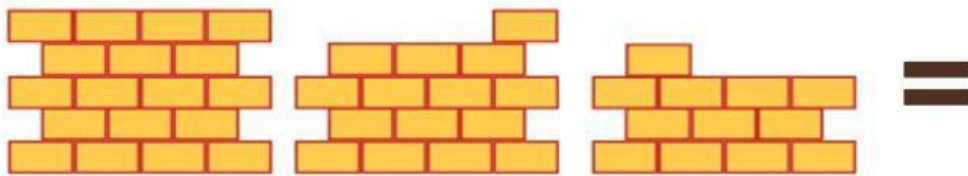
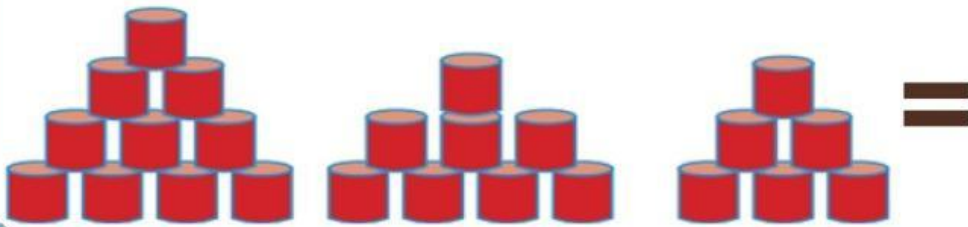


Tentukan banyak benda yang sesuai pola gambar





**Tentukan bilangan yang tepat
sesuai pola bilangan yang ada**













34	27	20	13		
40	34		22	16	

5	9	13	17	
6	12		24	





Tentukan berapa banyak pola berikutnya dengan menarik garis lurus dari kotak sebelah kiri ke kotak sebelah kanan



JAWABLAH DENGAN TEPAT!

Ali diberi tugas oleh guru untuk menata buku pada rak di perpustakaan. Pada rak pertama, Ali menata 5 buku, pada rak kedua menata 9 buku, pada rak ketiga menata 13 buku. Tentukan banyak buku yang ditata oleh Ali pada rak kelima !

Jawab:

Seorang petani sedang mencatat penjualan buah kelapa yang mengalami penurunan selama 7 hari berturut-turut dan memiliki pola tertentu.

TENTUKAN BANYAK PANEN HARI KE 7!

Hari	Banyak Kelapa
Hari Pertama	36 buah
Hari Kedua	31 buah
Hari Ketiga	26 buah
Hari Keempat	21 buah

Jawab: