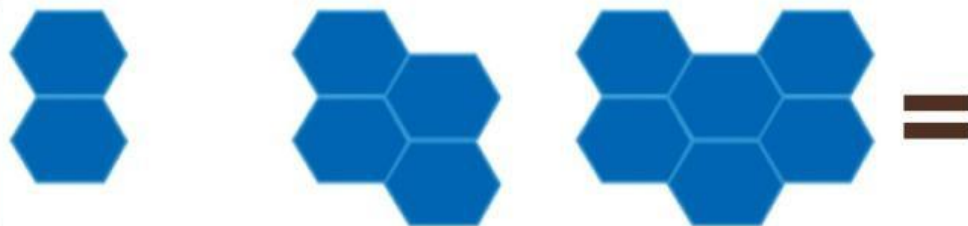
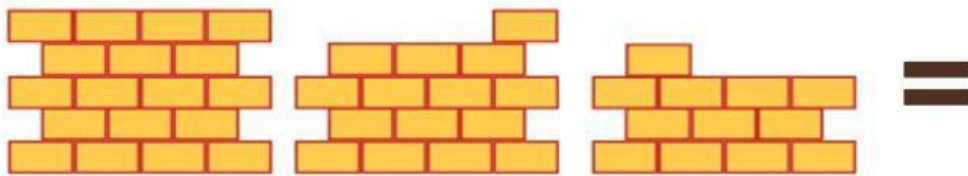
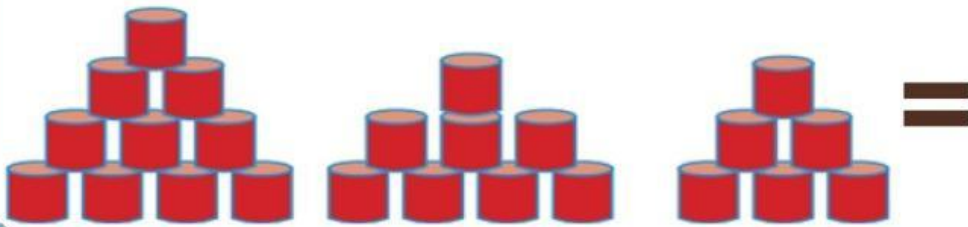


Tentukan banyak benda yang sesuai pola gambar





**Tentukan bilangan yang tepat
sesuai pola bilangan yang ada**













| | | | | | |
|----|----|----|----|----|--|
| 34 | 27 | 20 | 13 | | |
| 40 | 34 | | 22 | 16 | |

| | | | | |
|---|----|----|----|--|
| 5 | 9 | 13 | 17 | |
| 6 | 12 | | 24 | |





Tentukan berapa banyak pola berikutnya dengan menarik garis lurus dari kotak sebelah kiri ke kotak sebelah kanan

| | | | |
|---|---|---|---|
|  |  |  |  |
|  |  |  |  |
|  |  |  |  |



JAWABLAH DENGAN TEPAT!

Ali diberi tugas oleh guru untuk menata buku pada rak di perpustakaan. Pada rak pertama, Ali menata 5 buku, pada rak kedua menata 9 buku, pada rak ketiga menata 13 buku. Tentukan banyak buku yang ditata oleh Ali pada rak kelima !

Jawab:

Seorang petani sedang mencatat penjualan buah kelapa yang mengalami penurunan selama 7 hari berturut-turut dan memiliki pola tertentu.

TENTUKAN BANYAK PANEN HARI KE 7!

| Hari | Banyak Kelapa |
|--------------|---------------|
| Hari Pertama | 36 buah |
| Hari Kedua | 31 buah |
| Hari Ketiga | 26 buah |
| Hari Keempat | 21 buah |

Jawab: