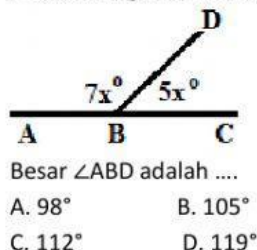


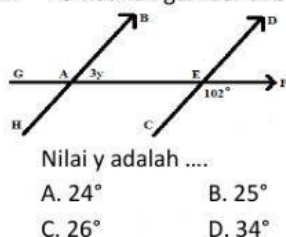
LATIHAN SOAL
GARIS DAN SUDUT

Pilihlah jawaban yang benar dari soal di bawah ini!

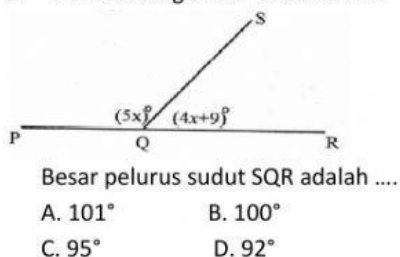
1. Perhatikan gambar di bawah ini



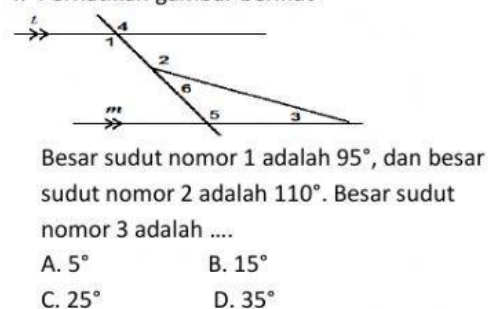
2. Perhatikan gambar di bawah ini



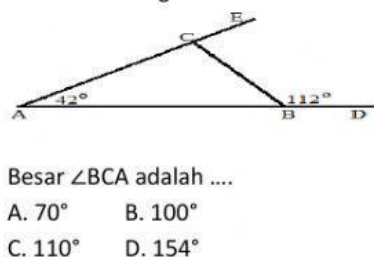
3. Perhatikan gambar di bawah ini



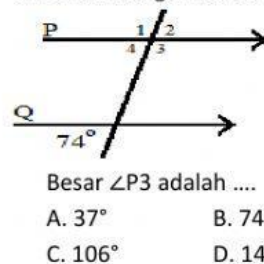
4. Perhatikan gambar berikut



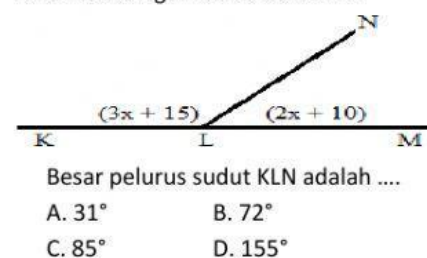
5. Perhatikan gambar



6. Perhatikan gambar di bawah ini



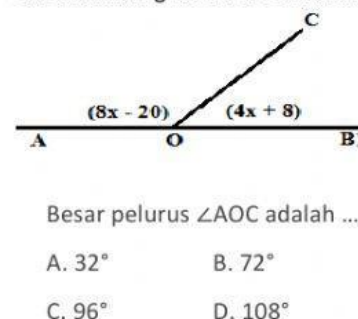
7. Perhatikan gambar di bawah ini



8. Perhatikan gambar di bawah ini



9. Perhatikan gambar di bawah ini



10. Perhatikan gambar di bawah ini

