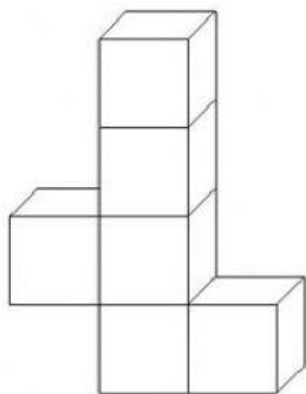
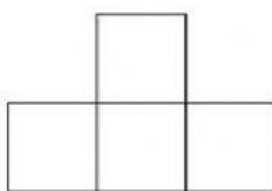



Какой вид сверху  
у этой фигуры



Возможные варианты



1



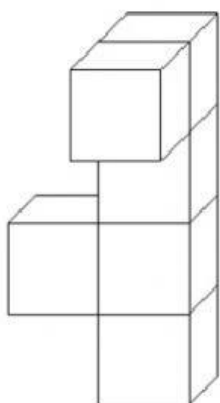
2



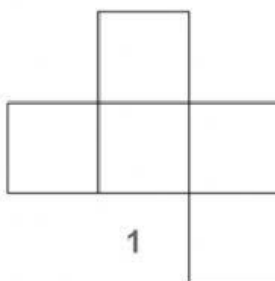
3

Задание 1

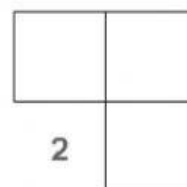
Какой вид сверху  
у этой фигуры



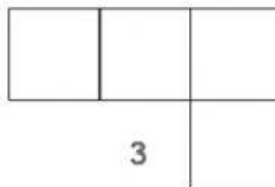
Возможные варианты



1



2



3

Задание 2