


# LKPD benda dan sifatnya



perhatikan vidoe berikut ini

Nam: amelia nasrun  
kelas: B





# PG



**1.berdasarkan wujudnya benda dapat dibedakan menjadi 3 kecuali....**

**a.padat**

**b.gas**

**c.cair**

**d.logam**



**2.benda benda dapat dikelompokkan berdasarkan wujudnya menjadi berikut ini..**

**a. padat,cair dan uap**

**b.cair es dan keras**

**c.padat cair dan gas**

**d.keras,lunak dan psangat keras**





3. benda yang tidak berubah bentuk dan volumenya ketika dipindahkan adalah....

- a. benda padat
- b. benda uap
- c. benda gas
- d. benda cair

4. berikut ini adalah contoh benda cair, kecuali.....

- a. Agar-agar
- b. minyak
- c. air
- d. susu





## **5.benda gas mempunyai sifat....**

**a.volume dan bentuknya  
tetap**

**b.bentuk dan massanya  
tetap**

**c.bentuknya tetap dan volumenya  
berubah ubah**

**D.bentuk dan volumenya berubah  
ubah**

### **essay**

**1.sebutkan macam macam wujud  
benda?**

**2.apa ciri-ciri benda padat?**

**3.apa saja ciri-ciri benda cair?**

**4.apa saja ciri-ciri benda gas?**

**5.sebutkan contoh dari benda  
padat,cair,dan gas masing"3 contoh ?**





# benar salah



1 benda gas mempunyai  
sifat volumenya tetap

a benar                      b salah

2. benda cair mempunyai ciri khusus yaitu  
dapat berubah menempati ruang

a benar                      b salah

3. air jika dimasukkan kedalam ember maka  
bentuknya akan menjadi seperti ember

a benar                      b salah

4. proses perubahan dari cair ma  
enjadi padat dinamakan membeku

a benar                      b salah


5. menyublim adalah peristiwa perubahan  
benda dari padat menjadi gas

a benar                      b salah





**menjodohkan**



**tanah**




**madu**




**susu**



**besi**



**batu**



# isian



1.kayu sering digunakan untuk membuat berbagai perabotan..... karena mempunyai sifat keras dan mudah dibentuk

2.balon yang ditiup terus lama-lama akan..... karena benda gas memiliki tekanan

3.benda gas mempunyai sifat..... dan volumenya berubah ubah

4.benda benda dapat dikelompokkan berdasarkan wujudnya menjadi..... dan gas

5.benda cair mempunyai ciri khusus yaitu dapat berubah..... ruang







# objektif



1 di bawah ini contoh dari benda padat  
kecuali!

a. es

b.kayu

c. kaca

d.susu

2.benda yang tidak berubah bentuk dan  
volume ketika dipindahkan adalah benda  
padat

a.benar

b salah

3. bagaimana perubahan wujud benda  
padat?







jus



plastrik

