

LEMBAR KERJA PESERTA DIDIK (LKPD)

PERTEMUAN 8 : LUAS DAN KELILING BANGUN DATAR TIDAK BERATURAN



Nama kelompok :

Anggota kelompok : 1.
2.
3.
4.
5.

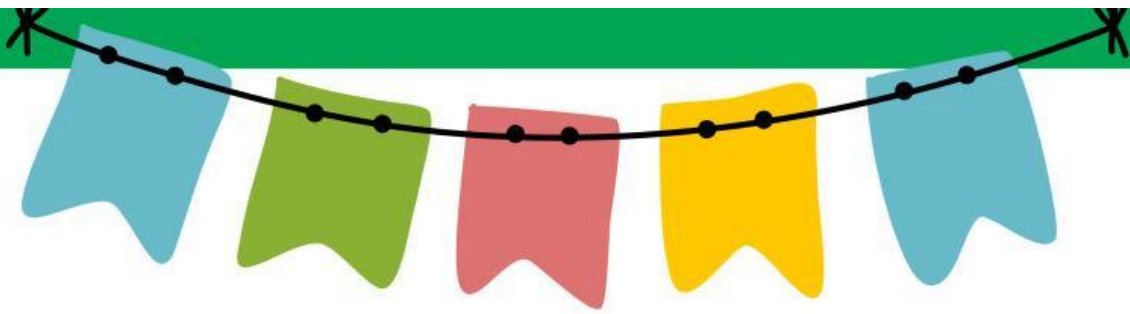
Tujuan

1. Dengan penugasan, peserta didik dapat menentukan luas dan keliling bangun datar lingkaran dengan tepat.
2. Dengan diskusi, peserta didik dapat menyelesaikan masalah yang berkaitan dengan keliling dan luas bangun datar dalam kehidupan sehari-hari dengan benar.



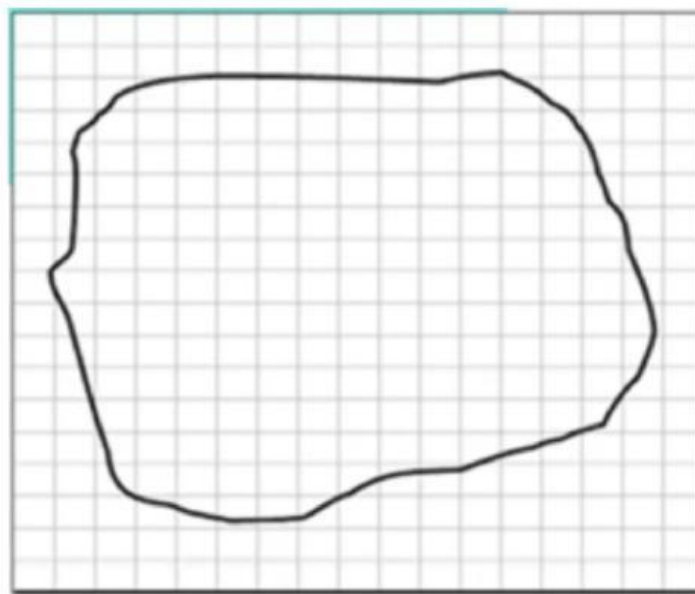
Langkah Kerja

1. Siswa dibagi menjadi 4 kelompok.
2. Siswa duduk di kelompok yang telah ditentukan.
3. Siswa membaca petunjuk soal sesuai jenis soal yang diberikan
4. Siswa menyelesaikan soal berdasarkan petunjuk yang telah dibaca dan dipahami.
5. Siswa membuat kesimpulan.



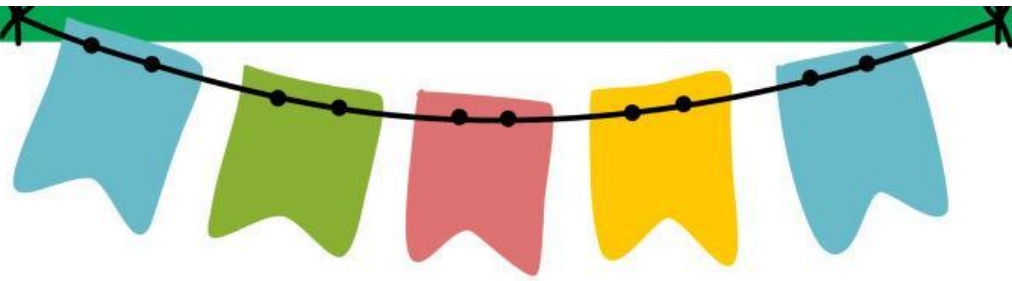
LATIHAN SOAL

1. Perhatikan gambar di bawah ini!



Eko memiliki serpihan batu. Ia ingin mengetahui taksiran luas dari batu tersebut. Bantulah Eko menemukan taksiran luas dari gambar batu di atas!





2. Alicia memiliki sarung tangan seperti gambar di bawah. Ia ingin mengetahui taksiran keliling dari sarung tangan miliknya. Bantulah Alicia menentukan taksiran keliling dari sarung tangan tersebut.

