


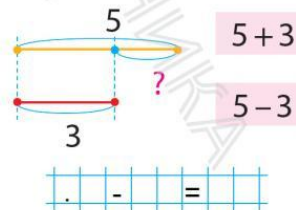

- 1** Попрацюй із геометричними фігурами.  Утвори пари. Прочитай рівність, за допомогою якої знайшли різницю між кількостями фігур.



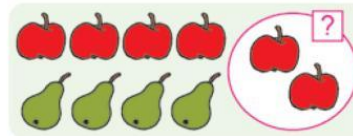
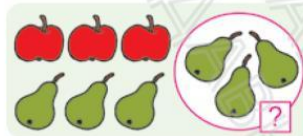
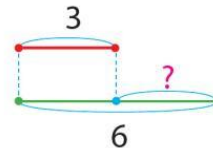
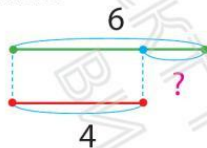
$$10 - 7 = 3$$



- 4** На скільки бабок більше, ніж жабок? На скільки жабок менше, ніж бабок? Розглянь, як це позначено на схемі. Добери відповідний вираз. Знайди різницю між кількостями істот.




- 5** Добери малюнок до кожної схеми. Знайди різницю між кількістю яблук і кількістю груш у кожному випадку. Запиши відповідну рівність.



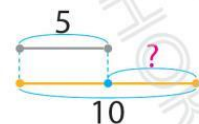

Яблук на менше, ніж груш.

Яблук на більше, ніж груш.

- 6** Золоті та срібні монети розкладено так, як показано на малюнках. Перевір, чи правильно складено схеми до малюнків. Запиши відповідні рівності.



$$8 \square - 3 = \square$$



$$\square \square \square \square = \square$$

- 7** Доповни схеми. Запиши відповідні рівності.

