

اسم الطالبة: الشعاع والمستقيم الصف: الثالث ()

أنواع الزوايا

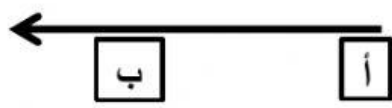
السؤال الأول: بعد مشاهدة الفيديو الإجابة عن الأسئلة:

(١) أي الأشكال الآتية قطعة مستقيمة:

(أ) ← (ب) — (ج) → ←

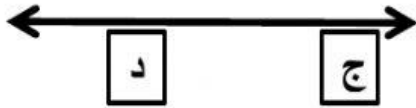
(٢) ما اسم الشكل المرسوم: ←

(أ) قطعة مستقيمة (ب) مستقيم (ج) شعاع



٣) الشعاع أ ب هو نفسه الشعاع ب أ

أ) نعم ب) لا



٤) ما النقطتان اللتان تقعان على المستقيم

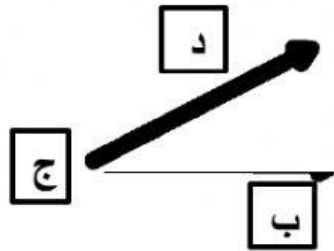
أ) ج د ب) د ج ج) أ + ب

٥) الشعاع هو

أ) الشعاع له نقطة بداية ونهاية

ب) الشعاع ليس له نقطة بداية وليس له نقطة بداية

ج) الشعاع له نقطة بداية وليس له نقطة نهاية



٦) أسمى رأس وضلعي الزاوية :

الرأس _____

الضلعان _____ ، _____

عملا ممتعا