
	Nama :	Nilai
	Kelas :	
	Hari/Tanggal :	
<b>PENILAIAN AKHIR SEMESTER 1 KELAS 5 2023/2024</b>		

Tiqa, Laras, dan Zizi sedang berdiskusi tentang kisah salah satu rasul Ulul Azmi, yaitu nabi Nuh as. Mereka mengingat-ingat siapa saja nama rasul yang tergolong dalam kelompok Ulul Azmi. Bantulah mereka untuk menyebutkan siapa saja nama rasul yang termasuk kedalam kelompok Ulul Azmi!

R  
A  
S  
U  
L  
  
U  
L  
U  
L  
  
A  
Z  
M  
I



Mereka bertiga kemudian menceritakan Kembali salah satu rasul Ulul Azmi yang sudah pernah diceritakan oleh ustaz-ustazah di kelas.

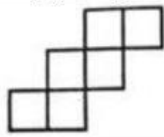
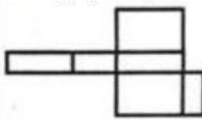
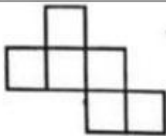
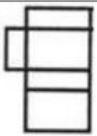
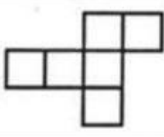
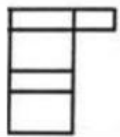
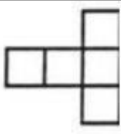
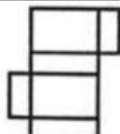
Tiqa, Zizi dan Laras melakukan penghitungan terhadap volume buku yang selesai mereka baca. Mereka melakukan penghitungan menggunakan penggaris, ada yang bertugas menggambar, mencatat, dan menghitung dilakukan bersama-sama. Jika panjang buku 12 cm, lebar buku 10 cm dan tingginya 5 cm, berapakah volume buku tersebut?

Kemudian mereka bertiga berpikir dan mencoba menghitung, berapakah panjang sisi dadu yang ada di kelas jika diketahui volumenya adalah  $125 \text{ cm}^3$ ?

Silahkan lakukan juga kegiatan tersebut, lalu tuliskan pada kolom dibawah ini!

Wah hebat! Kalian sudah menirukan kegiatan mencari volume buku dengan baik, seperti yang dilakukan Tiqa, Laras, dan Zizi. Sekarang, bantulah lagi mereka dengan memberi **tanda centang** pada jaring-jaring kubus dan balok **yang benar** dan memberi **tanda silang** pada jaring-jaring kubus dan balok **yang salah**!

kolom dibawah ini sesuai dengan jaring-jaring kubus dan balok!

Jaring-jaring kubus		Jaring-jaring balok	
<input type="radio"/>		<input type="radio"/>	
<input type="radio"/>		<input type="radio"/>	
<input type="radio"/>		<input type="radio"/>	
<input type="radio"/>		<input type="radio"/>	

Indonesia adalah Negara maritim dan agraris. Banyak sekali bentuk interaksi yang tercipta dari dua kondisi geografis tersebut. Bantulah Tiqa, Laras, dan Zizi untuk mendiskusikan beragam bentuk interaksi yang terjadi!



---

---

---

---

---

---

---

---

---

---



Di akhir diskusi, mereka teringat bahwa Allah menciptakan manusia dimanapun tempatnya diciptakan dengan bentuk yang sempurna. Hal ini juga telah dijelaskan oleh Allah pada surah At Tin ayat ke 4. Tulislah ayat tersebut beserta artinya!

الْإِنْسَانَ فِي أَحْسَنِ تَقْوِيمٍ خَلَقْنَا لَقَدْ

dalam bentuk yang sebaik-baiknya manusia

telah menciptakan sungguh, Kami benar-benar