

Nama :

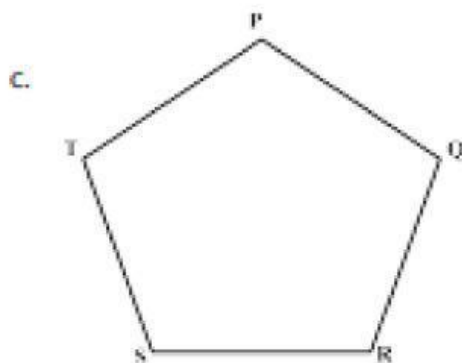
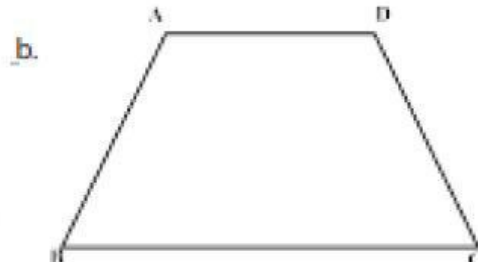
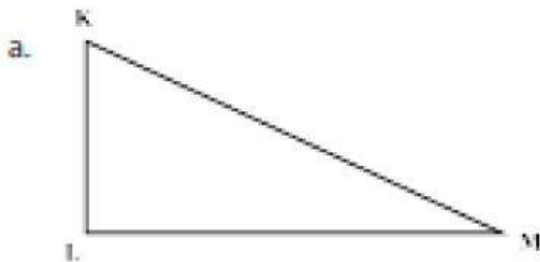
Kelas :

Sudut Pada Segitiga

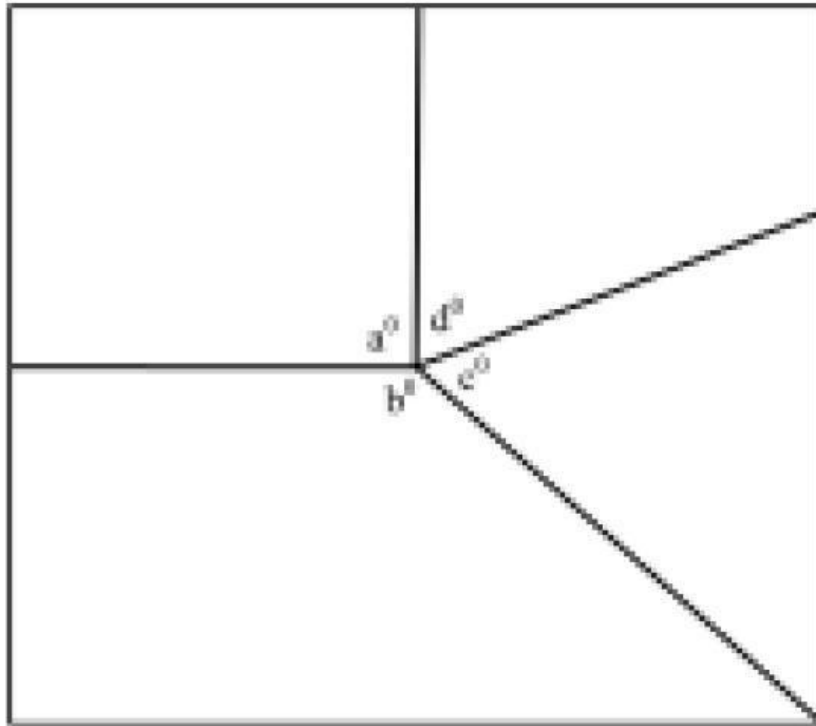
Tujuan Pembelajaran:

3. Mampu Menggunakan pengukuran sudut dengan busur derajat untuk menyelesaikan masalah

Tentukan besar sudut bangun datar di bawah ini!



2. Perhatikan gambar di berikut



- a
- b
- c
- d

Edo mempunyai selembar kertas karton dan akan dipotong-potong dan membentuk bangun datar seperti pada gambar di atas. Edo ingin mengetahui besar sudut pada bagian titik sudut yang terbentuk pada bangun datar tersebut. Ukurlah besar sudut a, b, c, d dengan menggunakan busu