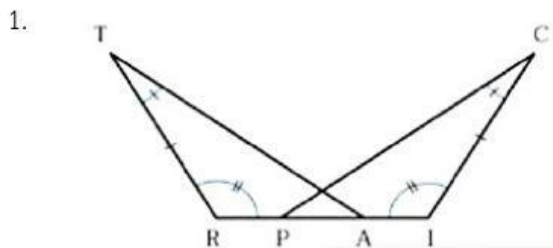


แบบทดสอบความเท่ากันทุกประการของรูปสามเหลี่ยม

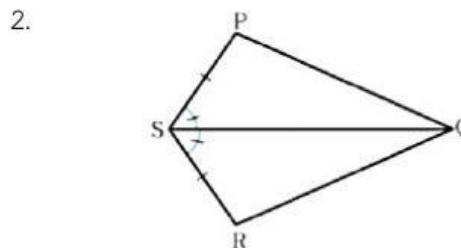
คำชี้แจง ให้นักเรียนเขียนความสัมพันธ์ของสามเหลี่ยมจากรูปที่กำหนดให้ โดยใช้ตัวย่อ ดังต่อไปนี้



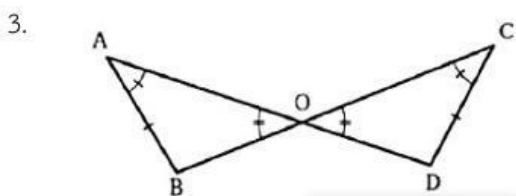
- 1) ด.ม.ด. 2) ม.ด.ม. 3) ด.ด.ด. 4) ม.ม.ด 5) ฉ.ด.ด.



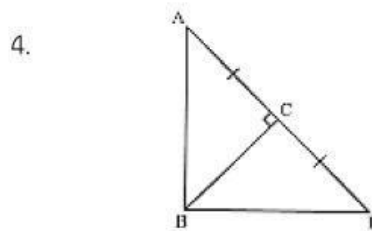
ความสัมพันธ์แบบ



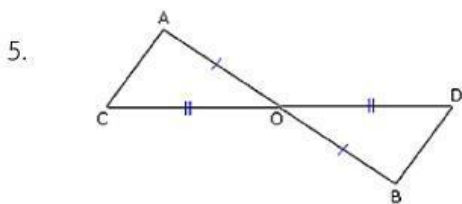
ความสัมพันธ์แบบ



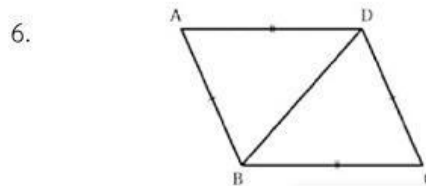
ความสัมพันธ์แบบ



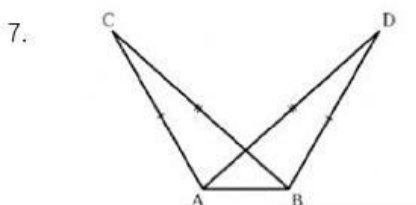
ความสัมพันธ์แบบ



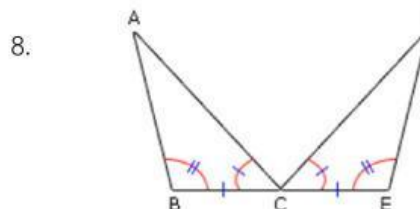
ความสัมพันธ์แบบ



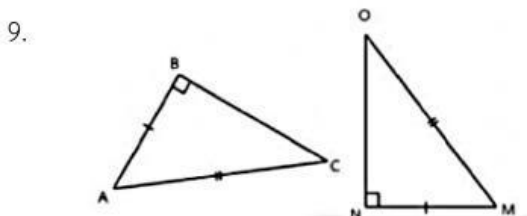
ความสัมพันธ์แบบ



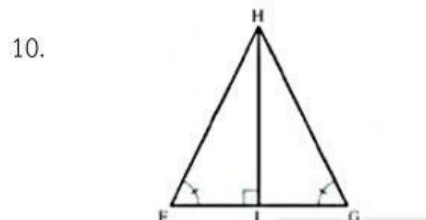
ความสัมพันธ์แบบ



ความสัมพันธ์แบบ



ความสัมพันธ์แบบ



ความสัมพันธ์แบบ



ชื่อ-สกุล..... ห้อง..... เลขที่.....