

# LKPD

# POLIMER

## PENGERTIAN POLIMER, JENIS POLIMER, SIFAT & KEGUNAAN POLIMER

NAMA : .....

KELAS : .....

Pilihlah gambar berikut ini yang **TIDAK** termasuk dalam contoh Polimer



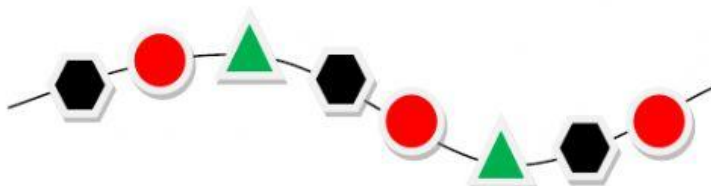
2. Perhatikan gambar struktur polimer berikut ini !



Berdasarkan gambar diatas, polimer tersebut termasuk dalam jenis polimer ...

( Pilih salah satu )

3. Perhatikan gambar struktur polimer berikut ini !



Berdasarkan gambar diatas, polimer tersebut termasuk dalam jenis polimer ...

( Pilih salah satu )

4. Perhatikan struktur monomer berikut !



Apa nama polimer dari struktur monomer tersebut ?

**5. Perhatikan struktur polimer berikut**



**Apa nama polimer dari gambar disamping**

**Apa jenis polimer dari gambar disamping (berdasarkan sumbernya)**

**Apa jenis polimer dari gambar disamping (berdasarkan monomer penyusunnya)**

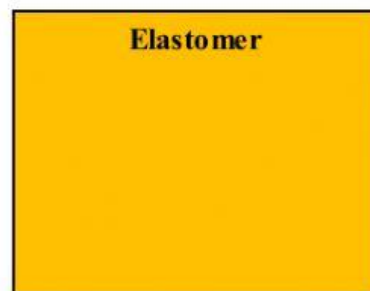
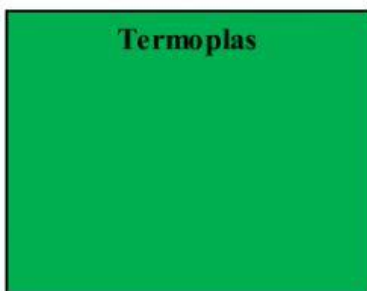

**6. Perhatikan struktur polimer berikut**



**Apa nama polimer dari gambar disamping**

**Apa jenis polimer dari gambar disamping (berdasarkan sumbernya)**

7. Kelompokkanlah dengan benar kotak yang berisi gambar sesuai dengan jenis polimer dibawahnya !



Polimer – Oleh Adi Nugroho S.Pd – SMK Xaverius Palembang