



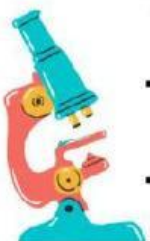
LKPD BAKTERI



Mata pelajaran : Biologi

Kelas/Fase : X ATPH/E

Tahun Ajaran : 2021 – 2022





LEMBAR KERJA PESERTA DIDIK



Mata pelajaran : Biologi

Kelas/Semester : ATPH/1

Hari/Tanggal :

Nama Siswa

Tujuan Pembelajaran

1. Peserta didik mampu mengidentifikasi Ciri-ciri dan struktur Bakteri
2. Peserta didik mampu menyebutkan peranan bakteri dari berbagai aspek kehidupan



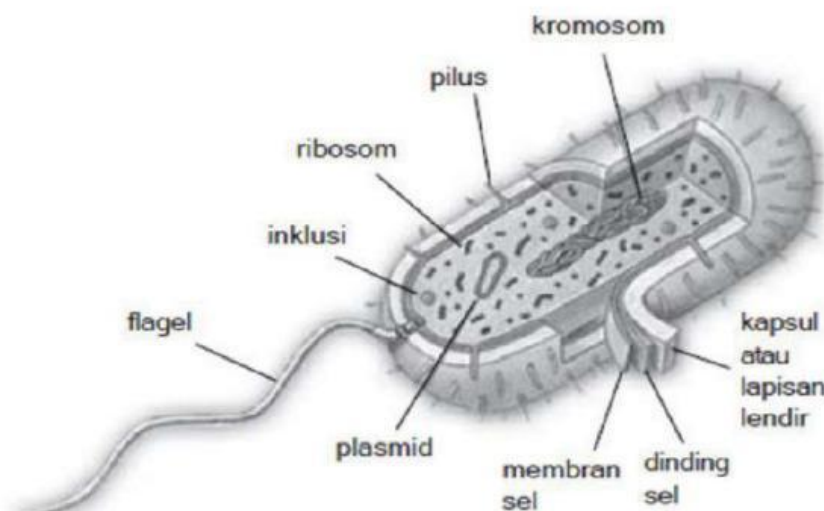


PETUNJUK



- a. Lakukan literasi materi tentang struktur dan peran bakteri dalam kehidupan melalui berbagai sumber!
- b. Kerjakan LKPD secara mandiri!
- c. Kerjakan LKPD pada bagian yang telah disediakan!
- d. Jika ada hal yang kurang jelas, tanyakan pada guru!

1. Perhatikan gambar bakteri di bawah ini kemudian tuliskan fungsi bagian bagian dari Struktur bakteri tersebut dengan mengisi jawaban di dalam tabel!



Struktur bakteri





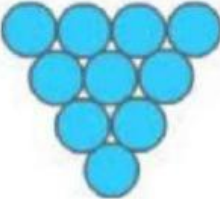
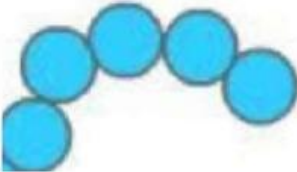



No	Nama Bagian Sel Bakteri	Fungsi
1		
2		
3		
4		
5		
6		
7		
8		
9		





2. Jawablah dengan tepat nama bentuk sel bakteri berikut ini Sesuai dengan gambar !

No	Bentuk Sel Bakteri	Nama
1		
2		
3		
4		
5		

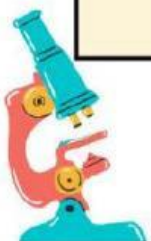




3. Jawablah dengan tepat ,nama bakteri yang menguntungkan dan merugikan serta perannya pada kehidupan dalam tabel berikut ini!

BAKTERI YANG MENGUNTUNGKAN

No	Nama Bakteri	Peran
1		
2		
3		
4		
5		





BAKTERI YANG MERUGIKAN

No	Nama Bakteri	Peran
1		
2		
3		
4		
5		

