

# Lembar Kerja Peserta Didik (LKPD) 2

## Menulis Nama Bilangan

Ayo Berlatih!

Hari/Tanggal : ...../...../.....  
Kelas : .....  
Anggota Kelompok : 1. ....  
2. ....  
3. ....

KELOMPOK :

.....



Tujuan : 4. Peserta didik dapat menulis nama bilangan

Petunjuk :

1. Baca dan ikuti setiap langkah kegiatan pada LKPD ini
2. Berdiskusilah Bersama teman kelompokmu untuk menyelesaikan masalah -masalah pada LKPD ini.
3. Tanyakan kepada guru bila ada yang kurang dipahami

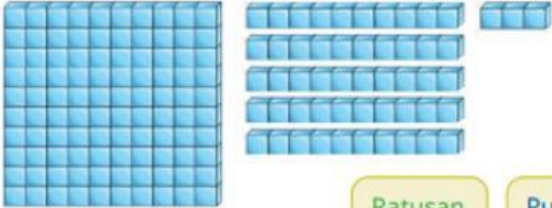




Bacalah petunjuk sebelum mengerjakan soal!  
Kerjakanlah soal berikut secara berkelompok dan jawablah dengan tepat dan benar!

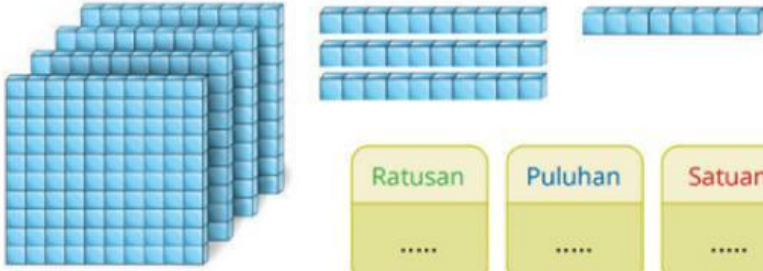
1. Isilah titik – titik dibawah ini berdasarkan gambar berikut!

a.



Ratusan	Puluhan	Satuan
.....	.....	.....

b.



Ratusan	Puluhan	Satuan
.....	.....	.....

2. Tuliskan lambang bilangan dan cara membaca bilangan yang terdapat pada gambar berikut!

a.



.....	dibaca .....
-------	--------------



b.




..... dibaca .....

c.




..... dibaca .....

d.



..... dibaca .....

3. Perhatikan bilangan yang tertera pada gambar berikut!





- a. Tentukan bilangan mana yang memiliki angka puluhan kurang dari 3?

Jawab : .....

- b. Bilangan mana yang memiliki angka satuan lebih dari 7?

Jawab : .....

- c. Bacalah bilangan dengan angka ratusan kurang dari 5!

Jawab : .....

4. Pasangkan lambang bilangan dan cara membacanya dengan cara menarik garis lurus!



• Sembilan ratus lima puluh

• Sembilan ratus tiga

• Seratus empat puluh lima

• Enam ratus dua



5. Pilih 3 angka yang berbeda dari 0, 1, ... sampai 9. Susun empat bilangan 3 angka yang mungkin terbentuk. Tuliskan dalam tabel di bawah ini.

Bilangan 3 Angka			Ditulis	Cara Membaca
****	****	****	****	
****	****	****	****	
****	****	****	****	
****	****	****	****	

**SELAMAT BEKERJA**

