









## ADUNAREA ȘI SCĂDEREA CU 1 ȘI 2

1 Câte legume din fiecare fel a cules grădinarul? Scrie operațiile corespunzătoare.

 + 	$4 + 2 = \square$
 + 	$\square + \square = \square$
 + 	$\square + \square = \square$
 + 	$\square + \square = \square$

2 Ajută fiecare persoană să găsească instrumentele necesare pentru a-și practica meseria. Unește operația corespunzătoare cu rezultatul corect.




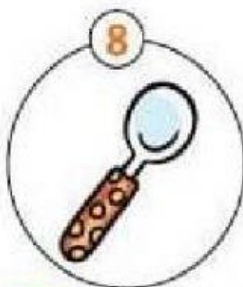
7-1

10-2

4+1


9+1

6+1




3 Bifează pagina cărții pe care este scris rezultatul corect.


10 - 1 =




9 + 1 =



6 + 2 =



6 - 2 =



7 - 1 =

