


Lembar Kerja Peserta Didik

# STATISTIKA




Nama:


Kelas:

# Materi Pembelajaran


1



2



3



4



# Kerjakan soal-soal berikut dengan benar!

## 1 Soal Teks Field

1. Nilai rata-rata dari beberapa buah data disebut ....

Jawab:

2. Nilai tengah dalam kumpulan data yang telah diurutkan secara terurut disebut ....

Jawab:

3. Nilai yang paling banyak muncul dalam suatu deret nilai disebut .....

Jawab:

4. Keterangan atau informasi yang diperoleh dari suatu pengamatan disebut ....

Jawab:

5. Simpangan baku disebut juga dengan ....

Jawab:

## 2 Soal Pilihan Ganda

1. Rumus sturges  $k = 1 + 3,32 \log n$ , lalu apakah sebenarnya definisi dari variabel  $k$  tersebut?  

A. Asimilasi data	D. Range kelas
B. Range	E. Nominal kelas
C. Interval	
2. 8, 3, 7, 4, 5, 8, 5, 8, 6, rerata berdasarkan deret angka tersebut adalah?  

A. 4	B. 5	C. 6	D. 7	E. 8
------	------	------	------	------
3. 8, 3, 7, 4, 5, 8, 5, 8, 6, dari data tersebut berapakah nilai mediannya?  

A. 4	B. 5	C. 6	D. 7	E. 8
------	------	------	------	------
4. 8, 3, 7, 4, 5, 8, 5, 8, 6, jika menggunakan data tersebut berapakah nilai modusnya?  

A. 4	B. 5	C. 6	D. 7	E. 8
------	------	------	------	------
5. 3, 7, 3, 9, 9, 3, 5, 1, 8, 5 apakah jenis modus yang digunakan pada deret angka tersebut?  

A. unimodal	D. multiplikasi
B. dwimodal	E. Modus nihil
C. triasmoda	

### 3 Soal Single Choice

1. 3, 7, 3, 9, 9, 3, 5, 1, 8, 5 berapakah rentan berdasarkan deret data tersebut?

2. Rerata selisih mutlak antara data dengan rata-ratanya disebut juga dengan?

3. Rerata selisih kuadrat data dengan nominalnya sendiri disebut dengan?

4. Apa yang dimaksud dengan jarak antara kuartil pertama data dan ketiga?

5. Apabila harga jagung di tahun 2002 adalah 1000 rupiah kemudian tahun berikutnya naik sebanyak 100 rupiah. Berapakah nilai indeks harga tahun 2003 dari jagung tersebut?

#### 4 Soal Mencari Kata/Word Search

Temukan kata berikut pada kotak di bawah ini:

statistika

mean

median

modus

data

I	S	R	E	A	I	O	L
A	T	A	R	D	A	T	A
K	A	U	G	U	T	E	D
A	T	M	F	A	H	M	A
I	I	O	V	Y	A	G	D
S	S	D	X	A	T	T	A
E	T	U	S	N	K	W	D
N	I	S	D	M	E	A	N
K	K	W	J	G	W	A	E
R	A	R	Y	D	R	K	T
M	E	D	I	A	N	T	U


## 5 Soal Speak

Sebutkan arti dari setiap simbol berikut ini dengan tepat!

1.



2.



3.



4.



5.



## 6 Soal Listening

Dengarkan suara berikut dan ketikkan jawabannya!

1.

2.

3.

4.


  

5.



## FINISH

Apakah LKPD ini menarik bagi Anda?



Berikanlah kritik dan saran Anda untuk perbaikan LKPD selanjutnya!

