

Lembar Kerja Peserta Didik

Nama kelompok:

Nama anggota :

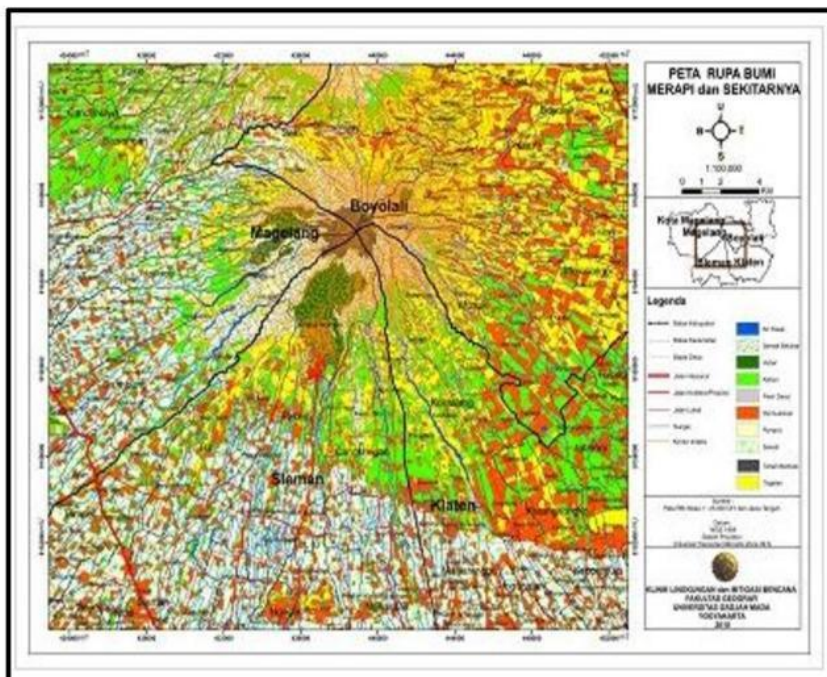
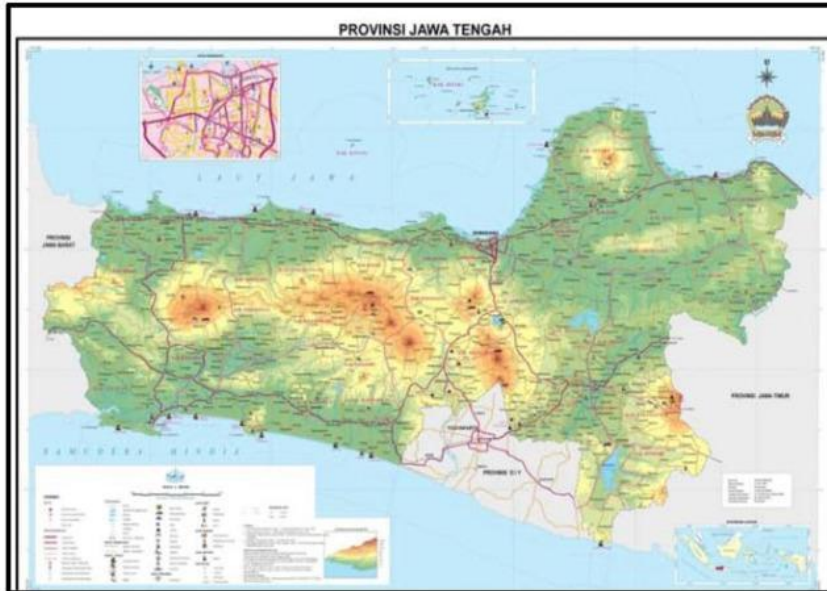
Kelas :

Tanggal :

Tema : Klasifikasi Peta, fungsi dan tujuan peta

Kerjakan soal berikut ini secara kelompok dan penuh kejujuran!

1. Klasifikasikan jenis peta umum berikut !

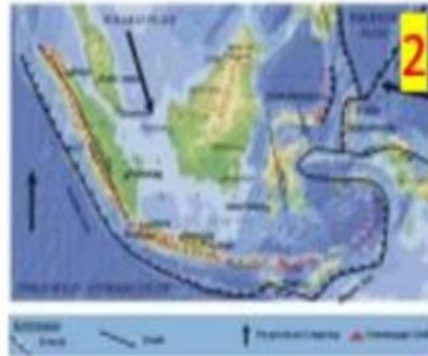


4. Klasifikasikan jenis peta berdasarkan sifatnya !



jalur penerbangan di Indonesia - sumber buku siswa kelas v sd/mi

<https://gurune.net/bandara-bandara-dan-lapangan-udara-di-indonesia/>



<https://anamsetiakukbm.wordpress.com/2015/01/18/jalur-gunung-api-indonesia/>



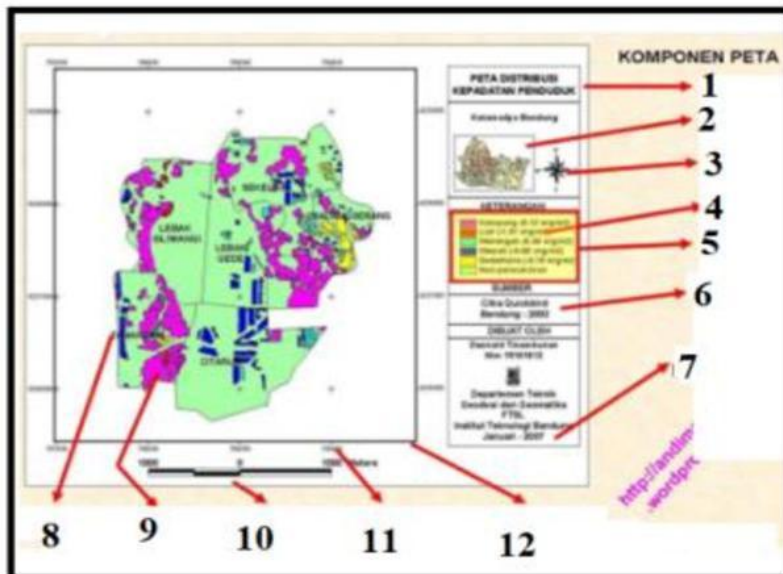
<https://ilmugeografi.com/kartografi/peta-geologi>



Peta Kepadatan Penduduk Indonesia 2010

<https://nurainins.blogspot.com/2019/02/peta-persebaran-kepadatan-penduduk-di.html>

5. Tuliskan nama komponen peta sesuai nomor pada peta berikut ini !



6. Deskripsikan masing masing 3 tujuan dan fungsi peta!