



PEMERINTAH KABUPATEN MUARA ENIM
DINAS PENDIDIKAN DAN KEBUDAYAAN
SMP NEGERI 1 SEMENDE DARAT LAUT

Alamat : jalan laskar Ali Ruddin Pulau Pangung Kecamatan Semende Darat Laut Kode pos 31356

SOAL ASASEMEN SUMATIF KELAS VIII
SEMESTR GANJIL TAHUN PELAJARAN 2023/2024
MATA PELAJARAN PRAKARYA

Nama : _____ Hari/Tgl : _____
No. Ujian : _____ Waktu : _____
Ruang/Kls : _____

Jawablah pertanyaan di bawah ini dengan benar dengan soal pilihan ganda, menjodohkan, pilihan ganda kompleks, isian singkat dan essay !

1. Kerajinan di bawah berbahan



- a. Gips
b. Tanah liat
c. Lilin
d. Getah nyatu

- 2.



kerajinan

Gambar di samping merupakan teknik dari

keramik yang di buat dengan

- a. Teknik Cetak
b. Teknik Cor
c. Teknik Putar.
d. Teknik Lempengan


3. 1) kerajinan keramik, 4) kerajinan sabun,
2) kerajinan kulit, 5) kerajinan getah nyatu.
3) kerajinan flour clay,

Dari data di atas, manakah yang termasuk dalam kerajinan bahan lunak alam...


- a. 1,2,3,4
b. 2,3,4,5
c. 1,2,3,5.
d. 1,3,4,5

4. Jenis limbah yang berwujud keras, padat, sangat sulit atau bahkan tidak bisa untuk diuraikan atautidak bisa membusuk disebut
a. limbah keras organik
b. limbah keras anorganik.
c. limbah lunak organik
d. limbah lunak anorganik


5.

	Apa nama media komunikasi masa kuno di samping ini... a. Lonceng b. Terompet c. Kentungan d. Prasasti
---	---

6.

	Apa nama media komunikasi masa kuno di samping ini adalah a. Lonceng b. Terompet c. Kentungan d. Prasasti
---	--


7.

	Nama media Teknologi informasi di samping adalah a. Telepon b. Komputer c. Laptop d. Hand Talky
--	--


8. Hewan yang dipelihara karena kekhasan dan keunikan; seperti keindahan bulunya; suaranya dan kelucuan perilakunya disebut ...

- a. Hewan Kesayangan.
- b. Hewan Liar
- c. Hewan dilindungi
- d. Hewan Ternak

9.

	Apa nama hewan ternak kesayangan disamping a. Burung kicauan b. Hamster c. Merpati d. Kelinci
---	--

10.

	Nama hewan pada gambar disamping adalah ... a. Jangkrik b. Ulat Sutra c. Cacing d. Lebah Madu
---	---

11. Teknik pengolahan panas basah Boilling dan steaming adalah ...
- a. Menghaluskan dan menyaring
b. Mengukus dan menghaluskan
c. Mengukus dan merebus
d. Merebus dan mengukus
12. Metode memasak frying adalah ...
- a. Menggoreng
b. Merebus
c. Mengukus
d. Menjemur
13. Jagung termasuk jenis tanaman
- a. Serelia
b. Umbi
c. Kacang-kacangan
d. Padi
14. Rasa manis ditimbulkan oleh ...
- Sukrosa
 glukosa
 Sitrat
 Nitrat
15. Kandang yang baik untuk hewan ternak adalah ...
- Kandang mudah dibersihkan
 Kandang memiliki saluran pembuangan
 Kandang melindungi ternak
 Kandang harus mewah
16. Jenis beras berdasarkan warna...
- Beras putih
 Beras jagung
 Beras merah
 Beras ketan
17. Keterampilan tangan, keterampilan teknik, dan kedaerahan merupakan prinsip kerajinan dari bahan lunak...
- Benar. Salah
18. Memberi kemudahan mengakses informasi, memudahkan pekerjaan, memberi kemudahan, dan memudahkan dalam bertransaksi merupakan fungsi dan peranan teknologi informasi dan komunikasi...
- Benar. Salah
19. *Vigna Radiata L* adalah bahasa latin dari kacang hijau..
- Benar Salah
20. Ada 3 jenis ubi jalar yang dibudidayakan di Indonesia
- Benar Salah

21. Dalam kehidupan sehari-hari sering kali kita menemukan jenis bahan lunak alam dan buatan yang bisa dijadikan sebuah karya kerajinan diantaranya adalah...

Pasangkanlah

Jenis Bahan	Alam	Buatan
Tanah Liat		
Sabun		

22. Pasangkanlah dengan pilihan jawaban yang tepat !

Jenis bahan pangan	serelia	umbi	kacang
Kedelai			
Jagung			
Kentang			

23. Jodohkan Jodohkan gambar kerajinan dari bahan lunak alami berikut ini



Tanah Liat



Kulit Jerami



Kulit Buaya

24. Jodohkan gambar media komunikasi modern berikut ini

Televisi



Smartphone



Radio



Faksimile



25. Pasangkanlah dengan pilihan jawaban yang tepat !

Jenis tanaman	Serelia	umbi-umbian	Jagung
Beras putih, beras merah dan dan beras hitam termasuk dalam jenis....			
Organ tumbuhan yang mengalami perubahan ukuran dan bentuk (pembengkakan) sebagai perubahan fungsinya merupakan definisi dari			
Tanaman semusim (annual) yang siklus hidupnya diselesaikan dalam 80-150 hari adalah			

26. Kerajinan di bawah ini terbuat dari.....



Jawab : _____

27. Nama hewan kesayangan ini adalah....



Jawab : _____

28. Nama tanaman dibawah ini adalah ...



Jawab : _____

29. Nama alat memasak berikut adalah ..



Jawab : _____

30. Makanan pokok yang termasuk jenis serelia ini adalah



Jawab : _____

SELAMAT BEKERJA !

