

Nombre y Apellido: _____

Ejercicios de Conteo de Segmentos

¡Resolvemos!


1. Resolvemos lo que indica cada problema (20 pts.)

1. Halla el número total de segmentos en:



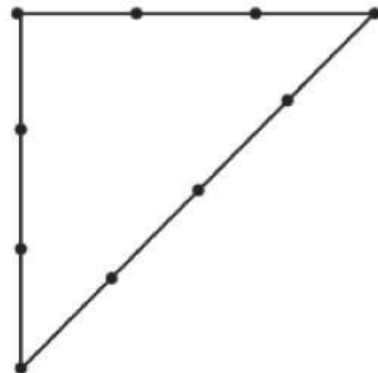
Resolución:

2. Halla el número total de segmentos en:



Resolución:


3. Halla el número total de segmentos en:



Resolución:


Nombre y Apellido: _____

4. Halla el número total de segmentos.



Resolución:

5. ¿Cuántos segmentos tiene la siguiente figura?



Resolución:

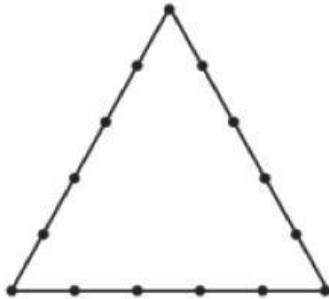
6. ¿Cuántos segmentos tiene la siguiente figura?



Resolución:

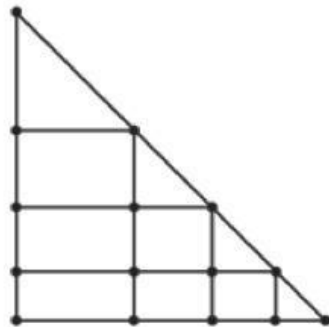
Nombre y Apellido: _____

7. Halla el número de segmentos en:



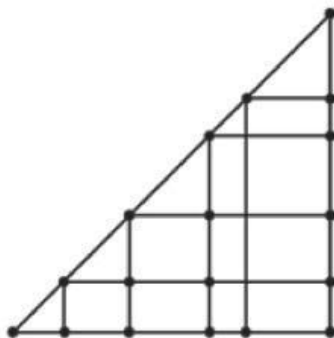
Resolución:

8. Halla el número de segmentos en:



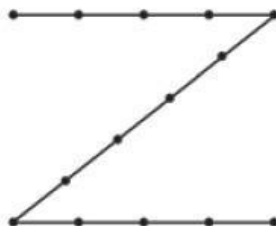
Resolución:

9. Halla el número de segmentos en:



Resolución:

10. Halla el número de segmentos en.



Resolución: