



* ورقة عمل تفاعلية (النسبة والمعدل) *

* الصف السادس الابتدائي *

إملئي كل فراغ بما يناسبه:




نسبة الخواتم
إلى العقود



نسبة الأكواب
إلى البسكويت



نسبة القمصان
إلى القبعات



اسم الطالبة:

@msranoony

معلمة الرياضيات رنا المحسن