



LKPD

IPAS FASE B

ZAT ATAU MATERI

OLEH :
DHITA WURYANINGTYAS
(2023015085017)

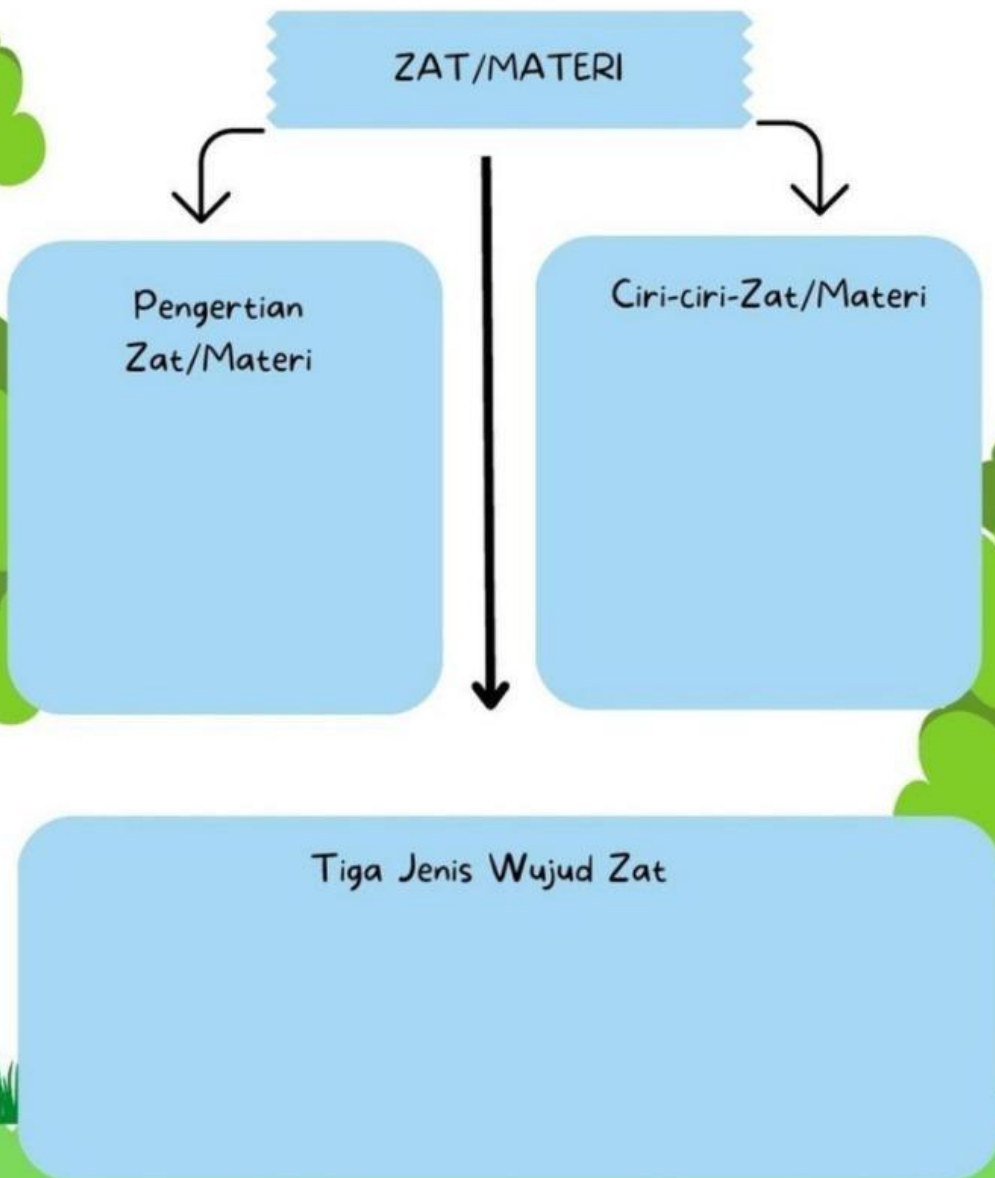


Nama:

Kelas:

ZAT/MATERI

Lengkapi Peta Konsep di bawah ini!



Nama: _____

Kelas: _____



Wujud Benda

Kelompokkan benda-benda berikut ini sesuai dengan wujudnya

PADAT

CAIR

GAS



AYO BERLATIH ! PERUBAHAN WUJUD ZAT

KELOMPOK ...

Nama :


1.....

2.....


3.....

4.....


Pada tugas kali ini, yang harus kamu selesaikan adalah mengisi jawaban yang pada kotak yang tersedia. Tetap semangat yaa..kamu pasti bisa kok 🤓💧

Peristiwa mencair adalah 

Perubahan wujud benda dari
 menjadi

Peristiwa membeku adalah 


Perubahan wujud benda dari
 menjadi

Peristiwa menguap adalah 


Perubahan wujud benda dari
 menjadi

Peristiwa mengembun adalah 

Perubahan wujud benda dari
 menjadi

Peristiwa menyublim adalah 

Perubahan wujud benda dari
 menjadi

Peristiwa mengkristal adalah 

Perubahan wujud benda dari
 menjadi

Ayo Kerjakan



Kelompok :
Nama :

1.
2.
3.
4.

Bagus... kamu telah sampai pada misi selanjutnya. Misi kali ini adalah menjodohkan pernyataan dengan gambar peristiwa perubahan wujud yang terjadi pada kehidupan sehari-hari dengan sesuai. Semangat yaaa 😊😊

Tarik garis dari satu titik ke titik pasangannya ya! 😊

	●	●	
	●	●	
	●	●	
	●	●	