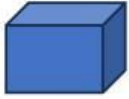


## MEMBUAT SOAL LKPD LIVEWORKSHEET

Soal pilihan ganda:

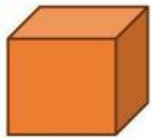
Dibawah ini yang merupakan gambar dari persegi Panjang adalah.....



Soal isian singkat:

Segitiga yang salah satu sudutnya 90 derajat disebut segitiga

Soal drop down:



Soal chek box:

Yang merupakan bagian dari bangun ruang sisi datar adalah:

kubus

Prisma

Tabung

Limas

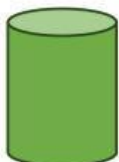
Soal join arrow:



KUBUS

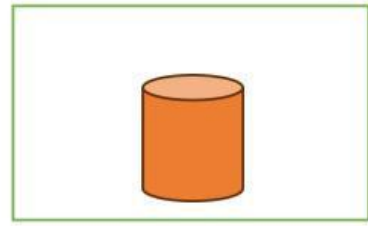
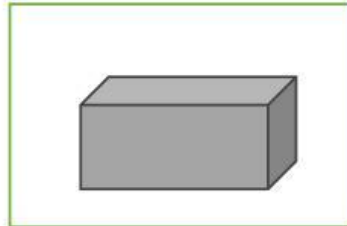
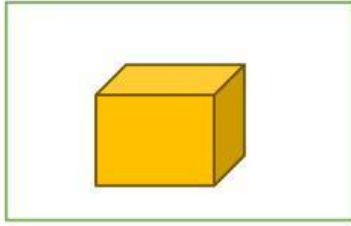


BALOK




TABUNG


Soal drag and drop:




Pindahkan bangun ruang diatas ke kotak yang tepat!



Kubus

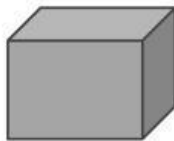


Balok



Tabung

Soal listening:



Benar

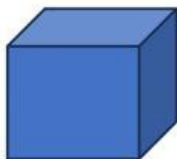
Salah



Benar

Salah

Soal speaking:



Soal work search

Cari kata kubus

<b>A</b>	<b>K</b>	<b>U</b>	<b>B</b>	<b>U</b>	<b>S</b>	<b>P</b>	<b>O</b>
<b>Q</b>	<b>V</b>	<b>M</b>	<b>A</b>	<b>I</b>	<b>O</b>	<b>O</b>	<b>B</b>
<b>W</b>	<b>P</b>	<b>R</b>	<b>I</b>	<b>S</b>	<b>M</b>	<b>A</b>	<b>A</b>
<b>R</b>	<b>D</b>	<b>J</b>	<b>B</b>	<b>T</b>	<b>D</b>	<b>A</b>	<b>L</b>
<b>T</b>	<b>U</b>	<b>O</b>	<b>V</b>	<b>C</b>	<b>G</b>	<b>A</b>	<b>O</b>
<b>L</b>	<b>I</b>	<b>M</b>	<b>A</b>	<b>S</b>	<b>B</b>	<b>H</b>	<b>K</b>
<b>Y</b>	<b>T</b>	<b>A</b>	<b>I</b>	<b>Y</b>	<b>R</b>	<b>J</b>	<b>V</b>