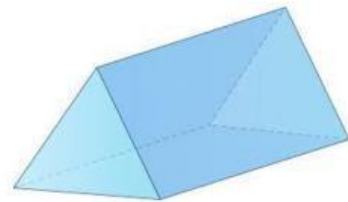
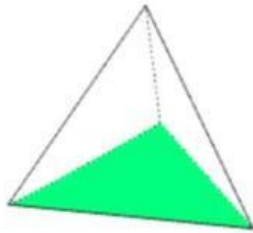
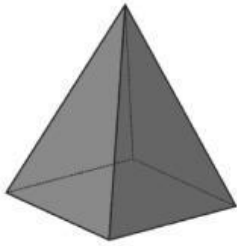


## LEMBAR KERJA PESERTA DIDIK (KUMPULAN SOAL MATEMATIKA)

### SOAL PILIHAN GANDA


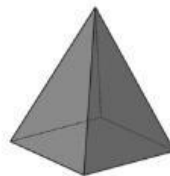
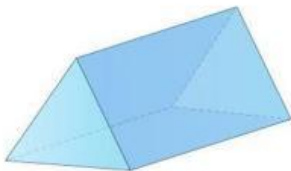
Dibawah ini yang merupakan gambar limas segitiga adalah...



### SOAL ISIAN SINGKAT DAN PARAGRAF

1. Segitiga yang salah satu sudutnya  $90^\circ$  disebut dengan segitiga....
2. Teorema pythagoras adalah...

### SOAL DROP DOWN



## SOAL CHECK BOX

Yang merupakan bagian dari bangun ruang sisi datar adalah...

KUBUS

PRISMA

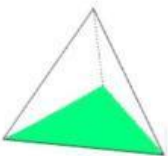
TABUNG

LIMAS

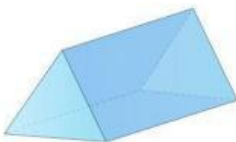
## SOAL JOIN ARROW



PRISMA SEGITIGA



LIMAS SEGITIGA



LIMAS SEGIEMPAT

## SOAL JOIN ARROW




Pindahkan bangun ruang di atas ke kotak yang tepat!



PRISMA SEGITIGA

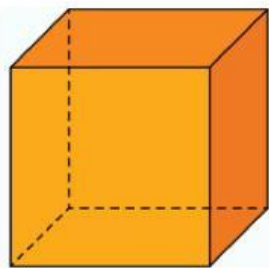


LIMAS SEGIEMPAT



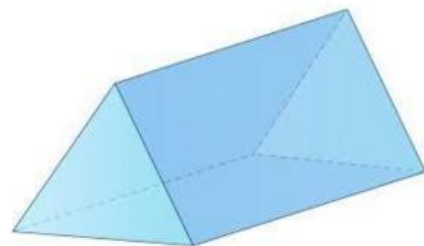
LIMAS SEGITIGA

## SOAL LISTENING



BENAR

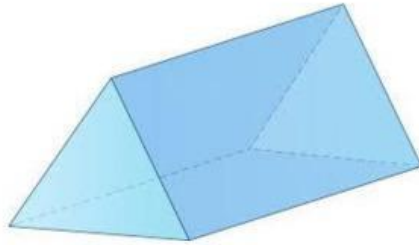
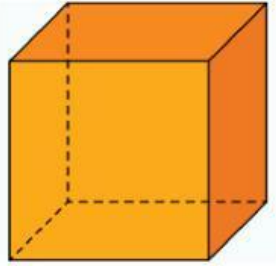
SALAH



BENAR

SALAH

## SOAL SPEAKING



## SOAL WORD SEARCH

CARI KATA : KUBUS, BALOK, PRISMA, LIMAS

A	K	U	B	U	S	P	O
Q	V	M	A	I	O	O	B
W	P	R	I	S	M	A	A
R	D	J	B	T	D	A	L
T	U	O	V	C	G	A	O
L	I	M	A	S	B	H	K
Y	T	A	I	Y	R	J	V