



**YAYASAN JARI MUNGIL KREATIF
MADRASAH TSANAWIYAH TERPADU ALAM JAMUR
SUMATIF AKHIR SEMESTER BERBASIS ANDROID
TAHUN PELAJARAN 2023/2024**

**Mata Pelajaran IPS
Kelas VIII
Rabu, 29 November 2023
Waktu mengerjakan jam 09.45 s/d 11.00 WITA**

1. Batas-batas wilayah Asia Tenggara di sebelah barat yang paling tepat adalah :
 - a. Kawasan Asia Timur dan Samudra Pasifik
 - b. Samudra Hindia dan Benua Australia
 - c. Kawasan Asia Selatan dan Samudra Hindia
 - d. Samudra Pasifik dan Papua Nugini
2. Perhatikan tabel dibawah ini, tentukanlah mana yang termasuk faktor penghambat dan mana faktor pendorong terjadinya kerja sama antar negara :

NO	PERISTIWA	Penghambat	Pendorong
1.	Perbedaan kepentingan tiap-tiap negara
2.	Kesamaan dan perbedaan wilayah (kondisi Geografis)
3.	Konflik & peperangan
4.	Perbedaan Ideologi
5.	Kesamaan & perbedaan sumber daya alam
6.	Kejackson Protekrif

3. Berdasarkan tabel dibawah ini, berilah tanda (V) pada pernyataan yang Benar atau Salah , bahwa negara di Kawasan Asia Tenggara memiliki potensi alamnya masing-masing, termasuk negara Indonesia. Berikut potensi alam yang dimiliki oleh Indonesia...

NO	POTENSI ALAM	BENAR	SALAH
1.	Persebaran tanah umumnya tidak subur karena tidak memiliki banyak gunung api
2.	Memiliki garis pantai yang panjang dan perairan yang luas
3.	Kaya akan barang tambang, hasil pertanian, perkebunan, dan kehutanan
4.	Memiliki berbagai potensi sumber energi alternatif, seperti sinar matahari, angin, air terjun, panas bumi, dan ombak

4. Benua Australiaberbeda dengan benua lainnya, karena Benua Australia hanya terdiri atas satu negara. Australia merupakan nama benua sekaligus nama negara di benua tersebut. Menurut para ahli geologi, Australiamerupakan benua tertua di dunia. Daerah pedalamannya tandus, kering, dan bergurun pasir seperti gurun Sahara. Benua Australia merupakan benua yang unik karena walaupun terletak di sebelah selatan Asia, tetapi penduduknya sebagian besar adalah penduduk Ras Kaukasoid yang banyak berasal atau sama dengan penduduk Eropa. Pasangkanlah beberapa hal yang berkaitan dengan Benua Australia di bawah ini yang berkaitan dengan letak Geografis benua Australia :

Bagian Timur	Laut Timor (Timor Timur) dan Laut Arafuru
Bagian Selatan	Samudra Pasifik, Laut Tasman, dan Laut Coral
Bagian Utara	Samudra Hindia & Antartika
Bagian Barat	Samudra Hindia
	Samudra Pasifik

5. Interaksi dan kerja sama antar negara ASEAN semakin berkembang seiring dengan munculnya berbagai kebutuhan setiap negara anggota. Kebutuhan sosial, politik, ekonomi, dan bidang-bidang lainnya menuntut suatu negara untuk berperan aktif melakukan kerja sama antar negara. Oleh karena itu, dalam organisasi ASEAN terdapat berbagai bentuk kerja sama yang dilakukan oleh negara-negara anggotanya.

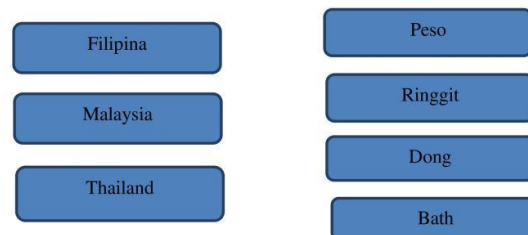
Pasangkan beberapa kerja sama yang dilakukan oleh negara-negara anggota tersebut, sebagai berikut :



6. Pengaruh perubahan ruang dan interaksi antarruang terhadap kehidupan ekonomi di negara-negara ASEAN. Para pemimpin ASEAN sepakat membentuk sebuah pasar tunggal di kawasan Asia Tenggara pada akhir 2015. Kesepakatan ini dilakukan agar daya saing ASEAN meningkat serta bisa menyaingi Tiongkok dan India untuk menarik investasi asing. Penanaman modal asing di wilayah ini sangat dibutuhkan untuk memperluas lapangan pekerjaan dan meningkatkan kesejahteraan. Pasar tunggal ini disebut dengan istilah Masyarakat Ekonomi Asean. Pembentukan MEA ini dibentuk dan dilandasi beberapa pilar. Berilah tanda (V) pada pernyataan yang Benar atau Salah sesuai dengan landasan MEA terbentuk :

NO	PERNYATAAN	BENAR	SALAH
1.	Pasar dan basis produksi ganda
2.	Kawasan dengan pembangunan ekonomi yang merata dan berkeadilan
3.	Kawasan terintegrasi dengan ekonomi global
4.	Kawasan ekonomi yang berdaya saing tinggi

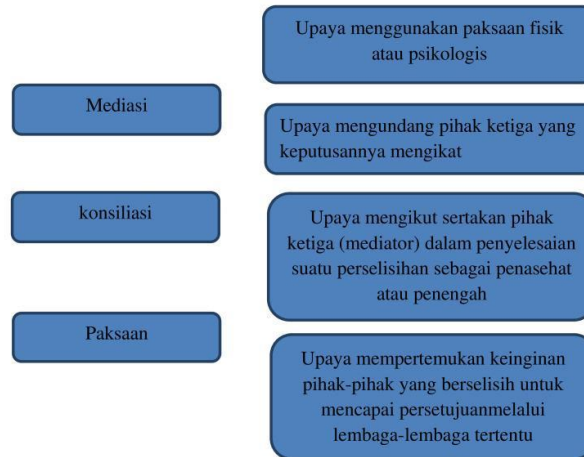
7. Menteri Luar Negeri Singapura yang ikut menandatangani Deklarasi Bangkok adalah ...
a. Narciso Ramos c. S. Rajaratman
b. Thanat Khoman d. Tun Abdul Razak
8. Berikut negara Asia Tenggara yang masuk dalam wilayah Mainland Southeast adalah...
a. Myanmar dan Kamboja c. Vietnam dan Filipina
b. Vietnam dan Malaysia Timur d. Filipina dan Kamboja
9. Nelayan ikan yang dengan skala besar yang beroperasi di kawasan Asia Tenggara memanfaatkan data cuaca, suhu, dan arah angin untuk mencari ikan di lautan. Fenomena ini berkaitan dengan faktor yang mempengaruhi interaksi antarruang, yaitu faktor ...
a. Geologi c. Iklim
b. Ketersediaan sumber daya d. Teknologi
10. Batas wilayah negara Kamboja di sebelah utara adalah ...
a. Laos dan Thailand c. Thailand dan Tiongkok
b. Vietnam dan Laos d. Teluk Siam
11. Negara di kawasan Asia Tenggara ada 11 (sebelas) negara. Di mana setiap negara tersebut memiliki ciri khasnya masing-masing yang dapat dilihat dari letak, kenampakan alam, sosial dan sebaunya. Adapun beberapa ciri khas yang dimiliki oleh negara-negara anggota ASEAN tersebut salah satunya jenis mata uang negara, sebagai berikut :



12. Berikut posisi kawasan Asia Tenggara jika dilihat secara Astronomis, berada dititik ...
a. 28°LU - 11°LS dan 95°BT - 141°BT
b. 6°LU - 11°LS dan 95°BT - 141°BT
c. 1°11"LU - 1°27'6"LU dan 103°39"BT - 104°9"BT
d. 28°LU - 21°LU dan 96°BT - 104°
13. Berikut negara Asia Tenggara yang masuk dalam wilayah Mainland Southeast adalah...
a. Myanmar dan Kamboja c. Vietnam dan Filipina
b. Vietnam dan Malaysia Timur d. Filipina dan Kamboja
14. Dampak negatif dari interaksi antar negara-negara ASEAN yang menimbulkan perubahan di bidang transportasi ditunjukkan oleh pernyataan berikut dibawah ini. Berilah tanda (V) pada pernyataan yang Benar atau Salah sesuai dengan pernyataan dampak negatif di bawah ini :

NO	PERNYATAAN	BENAR	SALAH
1.	Penggunaan monorel kereta jurusan Bandung - Jakarta
2.	Kemacetan yang panjang di Johor Malaysia

24. Hidup dengan aman, damai, dan tenteram merupakan harapan semua orang, bahkan bagi masyarakat yang memiliki banyak keragaman. Akan tetapi, keragaman yang ada ternyata merupakan salah satu faktor pendorong terjadinya konflik. Agar kehidupan masyarakat dapat berlangsung dengan tertib, diperlukan sejumlah upaya untuk mengatasi konflik sosial yang terjadi dalam masyarakat. Selain itu, pada diri sendiri juga harus diterapkan sikap yang dapat mencegah terjadinya konflik. Dalam sosiologi upaya-upaya penanganan konflik dikenal dengan manajemen/ resolusi konflik. Manajemen/ resolusi konflik dipahami sebagai upaya untuk mengurangi dampak kerusakan yang terjadi akibat konflik. Di bawah ini ada beberapa upaya yang dapat ditempuh guna mengatasi konflik sosial, sebagai berikut :



25. Integrasi sosial diharapkan dapat terwujud dalam berbagai lingkungan masyarakat. Berikut beberapa contoh kegiatan Integrasi dalam masyarakat. Berikut contoh integrasi sosial dalam masyarakat Indonesia, baik di dalam kehidupan sehari-hari, di sekolah, ataupun di dalam suatu kelompok.

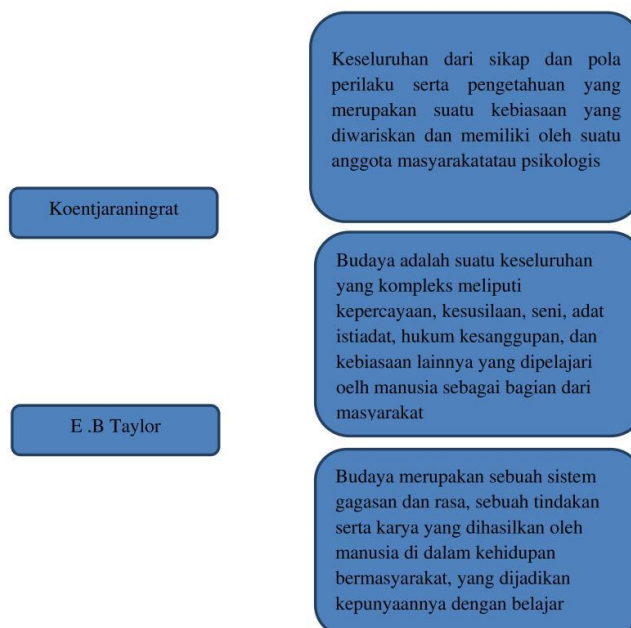
Berilah tanda (V) pada pernyataan yang Benar atau Salah, dari kegiatan masyarakat yang menunjukkan integrasi sosial dalam masyarakat Indonesia :

NO	PERNYATAAN	BENAR	SALAH
1.	Tidak mengutamakan ego dan kepentingannya
2.	Mengisi kemerdekaan dengan kegiatan positif
3.	Memaksakan kehendak kepada orang lain
4.	Mengikuti upacara bendera dengan khidmat
5.	Melestarikan kebudayaan bangsa dengan mengikuti setiap pementasan
6.	Tidak ikut berperan aktif melaksanakan kegiatan poskamling

26. Pak Amir mengajar di SMA sebagai guru. Setelah beberapa tahun, ia kini menjabat sebagai wakil kepala sekolah bidang kurikulum. Kasus ini merupakan contoh mobilitas sosial...

- Horizontal
- Antargenerasi
- Vertikal naik
- Vertikal turun

27. Di bawah ini ada beberapa pengertian budaya menurut para ahli, sebagai berikut :



28. Berikut adalah beberapa pernyataan tentang mobilitas sosial.

Berilah tanda (V) pada pernyataan yang Benar atau Salah, dari beberapa pernyataan tersebut :

NO	PERNYATAAN	BENAR	SALAH
1.	Faktor pendorong mobilitas sosial geografis yang berhubungan dengan kemampuan daya dukung suatu daerah adalah masyarakat yang heterogen
2.	Mobilitas vertikal adalah perpindahan status sosial yang dialami seseorang atau sekelompok warga dalam lapisan yang berbeda
3.	Pendidikan sangat memengaruhi terjadinya mobilitas sosial karena pendidikan bersifat bertingkat-tingkat
4.	Seorang anggota partai politik yang profesional dan berdedikasi kemungkinan akan cepat mendapatkan status yang semakin tinggi sampai akhirnya menjadi anggota legislatif. Saluran mobilitas sosial yang berperan penting adalah lembaga pendidikan.

29. Kontravensi berasal dari bahasa latin, contra dan venire yang berarti menghalangi atau menentang. Kontravensi merupakan usaha untuk menghalang-halangi pihak lain dalam mencapai tujuan. Tujuan utama tindakan dalam kontravensi adalah menggagalkan tercapainya tujuan pihak lain. Ada beberapa macam bentuk kontravensi menurut Leopold Von Wiese dan Howard Becker, Berilah tanda (V) pada pernyataan yang Benar atau Salah, dari beberapa pernyataan tersebut :

NO	PERNYATAAN	BENAR	SALAH
1.	Kontravensi intensif, antara lain dilakukan dengan menghasut, menyebarkan desas desus, dan mengecewakan pihak lain
2.	Kontravensi taktis, antara lain dilakukan dengan pengkhianatan dan mengumumkan rahasia pihak lain
3.	Kontravensi rahasia, antara lain dilakukan dengan mengejutkan lawan dan mengganggu pihak lain
4.	Kontravensi umum, antara lain dilakukan dengan penolakan, keengganan, perlawanan, perbuatan menghalang-halangi, protes, gangguan-gangguan, dan kekerasan
5.	Kontravensi sederhana, antara lain dilakukan dengan menyangkal pernyataan pihak lain di depan umum, memaki-maki orang lain melalui selebaran, mencera dan memfitnah

30. Andi dan Budi sedang berkonflik, kemudian guru mereka menjadi penengah. Penyelesaian masalah tersebut dilakukan dengan...

- | | |
|---------------|---------------|
| a. Coercion | c. Mediation |
| b. Konsiliasi | d. Compromise |