

# LEMBAR KERJA PESERTA DIDIK (LKPD)

---

Satuan Pendidikan : SDN 04 MUNGKA

Mata Pelajaran : Matematika

Kelas/Semester : IV / 1

Pembelajaran : Pecahan

Alokasi Waktu : 2 x 35 Menit

NAMA KELOMPOK :

ANGGOTA KELOMPOK :

- 1.
- 2.
- 3.
- 4.
- 5.



**PETUNJUK Pengerjaan :**

- a. Diskusikan dengan kelompok pertanyaan yang ada kemudian jawablah pertanyaan tersebut dengan teliti!
- b. Tanyakan kepada guru jika mengalami kesulitan dalam mengerjakannya.

1. Bentuk pecahan yang senilai dengan  $\frac{5}{12}$  adalah...

☐  $\frac{20}{48}$

☐  $\frac{25}{70}$

☐  $\frac{35}{78}$

☐  $\frac{40}{98}$

2. Pecahan yang senilai dengan  $\frac{2}{3}$  adalah ...

☐  $\frac{4}{6}$

☐  $\frac{1}{2}$

☐  $\frac{8}{10}$

☐  $\frac{2}{7}$

3. Pecahan  $\frac{1}{4}$  mempunyai nilai ..... dari  $\frac{1}{9}$

☐ Lebih kecil

☐ Lebih Besar

☐ Lebih Sedikit

☐ Lebih Banyak

4. Pecahan  $\frac{1}{2}$  mempunyai nilai ..... dari  $\frac{1}{16}$

☐ Lebih Besar

☐ Sama Besar

☐ Besar sama

☐ Lebih Kecil

5. Pecahan paling sederhana dari  $\frac{36}{84}$  adalah...

☐  $\frac{4}{6}$

☐  $\frac{3}{8}$

☐  $\frac{6}{14}$

☐  $\frac{3}{7}$



6. Bentuk paling sederhana dari  $72/104$  adalah...

$12/13$

$7/13$

$9/13$

$6/13$

7. Bentuk sederhana dari  $72/108$  adalah..

$2/3$

$2/7$

$2/5$

$2/9$

8. Bagian yang berwarna biru pada gambar S mempunyai nilai .... dari bagian yang berwarna biru pada gambar U.


Gambar S



Lebih Kecil

Lebih Besar

Gambar U



Sama besar

Sama Banyak

9. Pecahan  $1/4$  adalah ..... dari  $1/5$

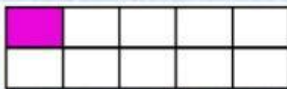
Lebih kecil

Sama besar

Lebih besar

Besar sama


10. Bagian yang berwarna ungu pada gambar J mempunyai nilai .... dari bagian yang berwarna ungu pada gambar L.



Gambar J

Besar sama

Lebih besar



Gambar L

Lebih kecil

Sama Besar