

LEMBAR KERJA PESERTA DIDIK

(LKPD)

Satuan Pendidikan : SDN 04 MUNGKA

Mata Pelajaran : Matematika

Kelas/Semester : IV / 2

Pembelajaran : Bangun Datar

Alokasi Waktu : 2 x 35 Menit

NAMA KELOMPOK :

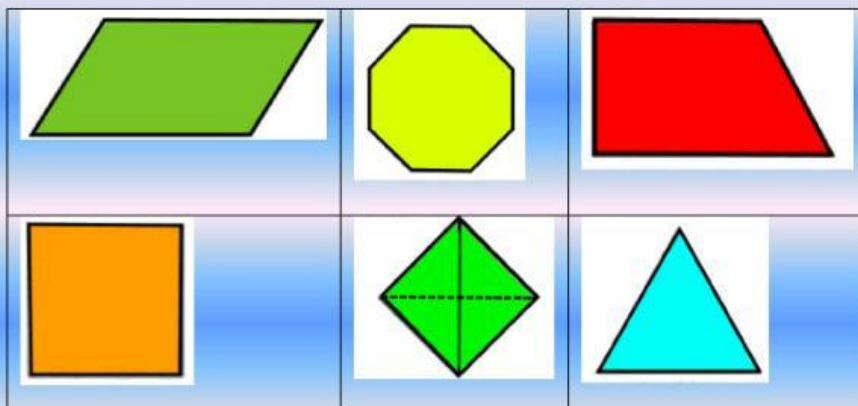
ANGGOTA KELOMPOK :

- 1.
- 2.
- 3.
- 4.
- 5.

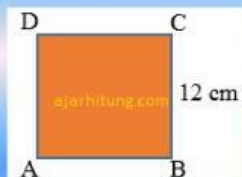
PETUNJUK Pengerjaan :

- a. Diskusikan dengan kelompok pertanyaan yang ada kemudian jawablah pertanyaan tersebut dengan teliti!
- b. Tanyakan kepada guru jika mengalami kesulitan dalam mengerjakannya.

1. Perhatikan gambar dibawah ini ! kemudian temukan 3 bangun yang merupakan bangun segibanyak beraturan!
 - Caranya klik bangun yaang menurutmu bangun segibanyak



2. Jawablah beberapa pertanyaan berikut dengan benar dan tepat !
 - a. Keliling bangun persegi ABCD di bawah adalah...



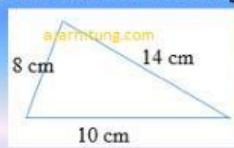
40 48 80 88

- b. Diketahui bangun di bawah kelilingnya 56 cm. Panjang sisi QR sama dengan...



28 24 18 16

c. Tentukanlah keliling bangun dibawah ini !



32

23

42

24

d. Luas segitiga dibawah ini adalah...



266m²

248m²

133m²

124m²

e. Permukaan meja makan Bu Widi berbentuk persegi panjang dengan panjang 14 dm dan lebar 9 dm. Luas meja tersebut adalah...

96m²

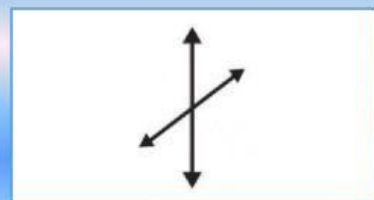
116m²

126m²

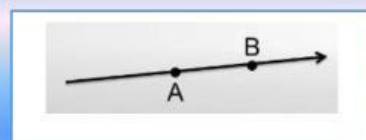
158m²

3. Buatlah garis jawaban yang benar:

a. garis yang saling sejajar ☐



b. garis yang saling berpotongan ☐



c. garis yang saling tegak lurus ☐



d. Dua garis yang saling berimpit ☐



SELAMAT MENGERJAKAN

:)