



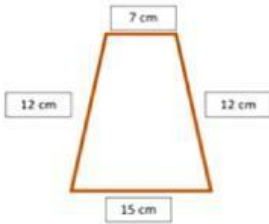
COLEGIO ALFONSO REYES ECHANDÍA I.E.D
 "Construyendo saberes para transformar la vida y el entorno"
 EVALUACIÓN FINAL IV PERIODO
 MATEMÁTICAS - TERCERO 2023



NOMBRE: _____ CURSO: _____ FECHA: _____

- Lee atentamente cada pregunta y marca la respuesta correcta.

1. ¿Cuál es el perímetro de la siguiente figura?



- a) 46 cm
 b) 50 cm
 c) 24 cm
 d) 39 cm

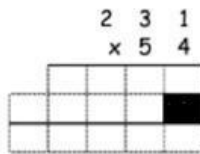
2. Felipe tiene \$2.594, en su fiesta de cumpleaños le regalaron \$ 5.843 y abuelita le dio \$ 9.636 ¿Cuánto dinero tiene Felipe en total?

- a) \$ 19.073
 b) \$ 16.073
 c) \$ 18.073
 d) \$ 20.073

3. ¿Qué operación tuvo que hacer Felipe para hallar el resultado final?

- a) Una suma
 b) Una división
 c) Una resta
 d) Una multiplicación

4. Resuelve la operación y marca la respuesta correcta.



- a) 13.546
 b) 23.154
 c) 54.213
 d) 12.474

5. 72 es el resultado de multiplicar

- a) 6 X 7
 b) 5 X 10
 c) 8 X 9
 d) 9 X 7

6. La diferencia entre las siguientes cantidades es:

$$\begin{array}{r} 67413 \\ - 18265 \\ \hline \end{array}$$

- a) 94.148
 b) 49.148
 c) 86.148
 d) 99.354


7. El resultado de las siguientes divisiones es:

$$18 \div 3 \quad 15 \div 5 \quad 32 \div 4$$

- a) 18 - 5 - 4
 b) 6 - 15 - 24
 c) 4 - 3 - 7
 d) 6 - 3 - 8

- Observa y responde las preguntas 8 y 9

Árboles plantados cada mes de enero a abril



8. ¿Cuál fue el mes en el que más árboles se plantaron?

- a) Abril
 b) Enero
 c) Marzo
 d) Febrero

9. ¿Cuántos árboles se plantaron en el mes de enero y marzo?

- a) 50 árboles
 b) 20 árboles
 c) 25 árboles
 d) 30 árboles

10. 76.805 se escribe:

- a) Setenta y seis mil ochocientos quince
 b) Sesenta y seis mil ochocientos cincuenta
 c) Setenta y seis mil ocho cero cinco
 d) Sesenta y seis mil quinientos ocho