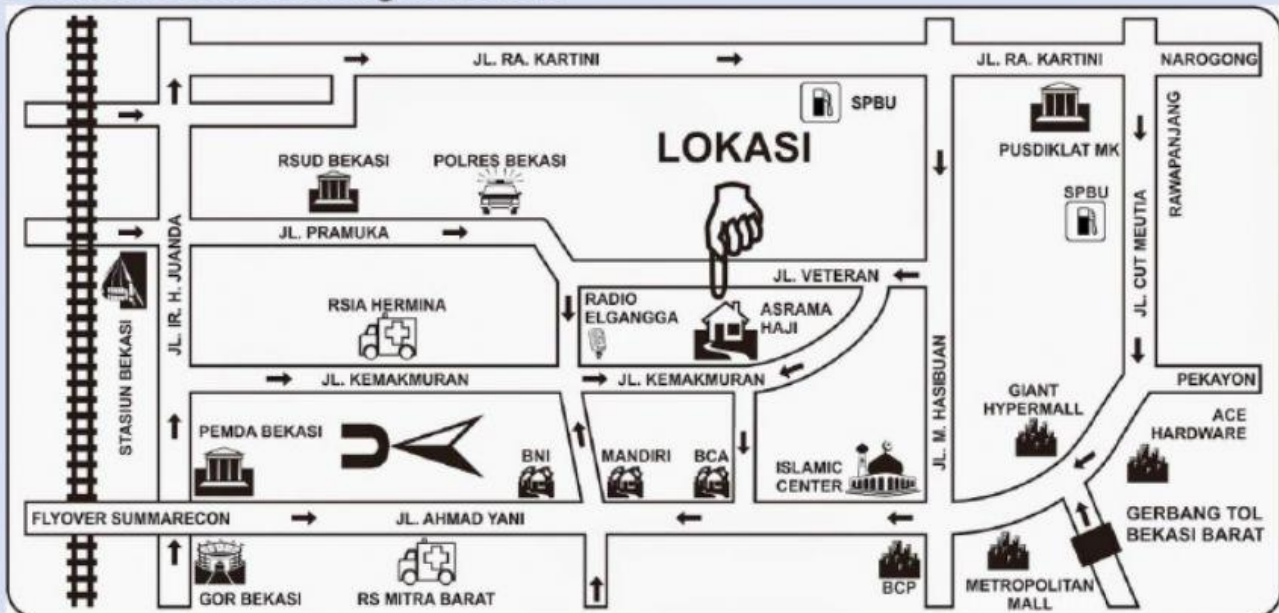


LEMBAR AKTIVITAS SISWA

MENGENAL TITIK, GARIS, DAN BIDANG

Nama : _____ Kelas : _____ No. Absen : _____

Perhatikan denah undangan berikut.



BNI

MANDIRI

POLRES BEKASI

RADIO ELGANGGA

Pindahkan kotak di atas sesuai pertanyaannya!

1. Kamu dari Gerbang Tol Bekasi Barat, maka titik petunjuk/bangunan apa yang ada di sisi kanan jalan yang dapat kamu lihat sebelum berbelok ke arah lokasi?

2. Dari arah Flyover Summarecon, maka titik petunjuk/bangunan apa yang ada di sisi kiri jalan yang dapat kamu lihat sebelum berbelok ke arah lokasi?

3. Kamu dari arah Jl. Pramuka, maka titik petunjuk/bangunan apa yang ada di sisi kiri jalan yang dapat kamu lihat sebelum berbelok ke arah lokasi?

4. Setelah melewati RSIA Hermina dan mengambil arah lurus, titik petunjuk/bangunan apa yang dapat kamu lihat sebelum sampai di lokasi?

5. Dari arah Jl. Kemakmuran, apakah kamu akan melalui RSIA Hermina untuk sampai di lokasi?

6. Misalkan bangunan-bangunan pada denah tersebut adalah titik-titik, dan jalan yang dilalui adalah kumpulan titik-titik, dapatkan kamu membuat sketsanya?

7. Sebutkan titik-titik/bangunan apa saja yang berada pada garis sepanjang jalan dari Metropolitan Mall sampai ke arah Flyover Summarecon?

- ☐ Ace Hardware
- ☐ Asrama Haji
- ☐ BCA
- ☐ BNI
- ☐ Giant Hypermall
- ☐ Islamic Center
- ☐ Mandiri
- ☐ Radio Elangga
- ☐ RSIA Hermina

8. Hubungkan sesuai namanya.



Garis




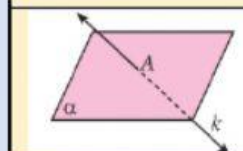
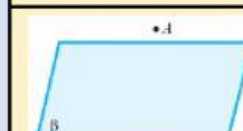
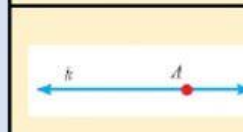
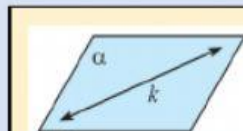
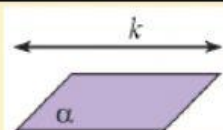
Sinar
Garis



Ruas
Garis

9. Pindahkan istilah berikut ke kotak gambar yang sesuai.

Titik pada garis	Titik di luar garis
Titik pada bidang	Titik di luar bidang
Garis pada bidang	Garis di luar bidang
Titik-titik segaris	Titik-titik sebidang
Garis menembus bidang	



10. Pilih notasi yang sesuai.

Nama \ Notasi	\overrightarrow{AB}	\overleftarrow{AB}	\overleftrightarrow{AB}
Ruas garis AB			
Garis AB			
Sinar garis AB			