

Nama :

Tanggal :

PETUNJUK PENGISIAN

- Isilah Jawaban dengan benar
- Ikuti petunjuk pengisian disetiap soal
- Jika sudah klik finish pada bagian bawah



PECAHAN

1.



Pecahan yang nilainya sama dengan banyaknya sisa pizza di atas yaitu....

- a. $\frac{3}{9}$ b. $\frac{6}{9}$ c. $\frac{3}{12}$ d. $\frac{6}{12}$

2. Adit memiliki $\frac{7}{12}$ kg beras, sedangkan Budi memiliki $\frac{6}{8}$ kg beras. Berilah tanda (v) pada pernyataan berikut.

Pernyataan	Benar	Salah
Beras yang dimiliki budi lebih sedikit dari pada beras milik adit		
Jumlah beras adit dan budi adalah $\frac{32}{24}$		

3. Yanti memiliki $\frac{4}{6}$ liter jus mangga, sedangkan Santi memiliki $\frac{7}{9}$ liter jus mangga. Berikut ini pernyataan yang benar yaitu

Jus mangga milik Yanti lebih sedikit

Jus mangga milik Santi lebih sedikit

Jus mangga milik Santi dan Yanti selisihnya adalah $\frac{1}{9}$

Jus mangga milik Yanti dan Santi jika dijumlahkan hasilnya $\frac{26}{18}$

4. Hubungkan angka berikut dengan gambar yang telah disediakan

$$\frac{3}{5}$$



$$\frac{2}{3}$$



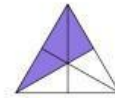
$$\frac{1}{3}$$




$$\frac{4}{5}$$



$$\frac{2}{5}$$



$$\frac{1}{2}$$



5. Jika pecahan $\frac{56}{72}$ disederhanakan, maka hasilnya ...

a. $\frac{6}{8}$

b. $\frac{7}{8}$

c. $\frac{6}{9}$

d. $\frac{7}{9}$

Pecahan Pizza

Ambil dan letakkan jawaban yang benar pada kotak - kotak yang telah disediakan

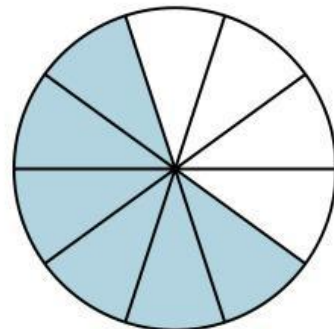
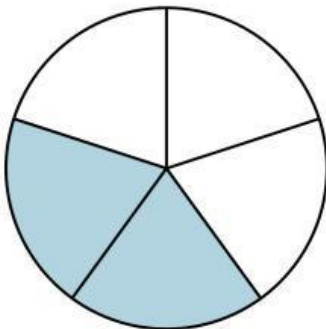
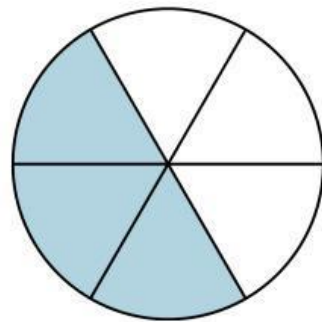
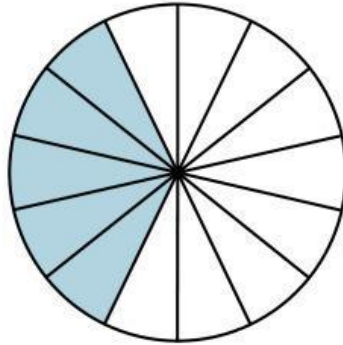
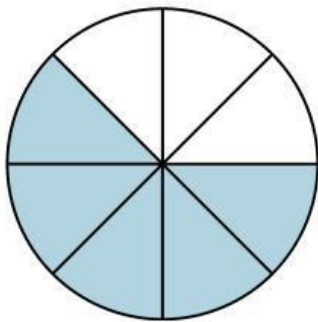
$\frac{5}{8}$

$\frac{3}{6}$

$\frac{5}{14}$

$\frac{6}{10}$

$\frac{2}{5}$



SELAMAT MENGERJAKAN
YOGA DHAMANTARA, S.PD