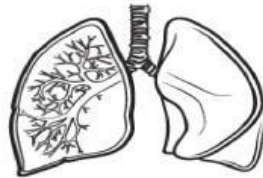
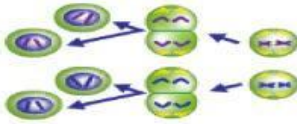
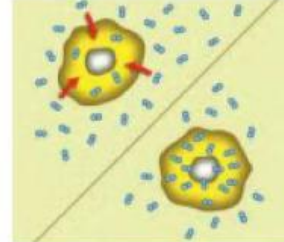
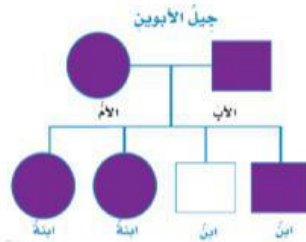


ورقة عمل مادة العلوم الصف السادس الابتدائي

السؤال السادس: ضع الكلمات التالية في الصورة المناسبة:

(الانتشار - الانقسام المنصف - مخطط السلالة - البناء الضوئي - الخلية - الاقتران - الجهاز الهضمي - الجهاز التنفسي)



السؤال السادس :- قارن بين الجدول التالي:

الانقسام المنصف	الانقسام المتساوي	وجه المقارنة
.....	عدد الخلايا الناتجة
.....	يحدث في

السؤال الثامن: صل من العمود (أ) ما يناسبه من العمود (ب) :

(ب)	الرقم	(أ)
يحمي أعضاء الجسم الداخلية.		1- الجهاز العضلي
مسؤول عن ابتلاع الطعام وتفكيكه.		2- الجهاز الهيكلي
يفرز الهرمونات مباشرة في الدم.		3- الجهاز الهضمي
يوفر القوة اللازمة لتحريك الجسم.		4- جهاز الغدد الصماء