







nome e cognome \_\_\_\_\_

data \_\_\_\_\_

# LE FIGURE GEOMETRICHE

scrivi il nome delle figure geometriche e le loro proprietà:

FIGURA GEOMETRICA	NOME	NUMERO DI LATI	FORMULE
	.....	lati:	perimetro:  area:
	.....	lati:	perimetro:  area:
	.....	lati:	perimetro:  area:
	.....	lati:	perimetro:  area:
	.....	lati:	perimetro:  area:
	.....	lati:	perimetro:  area: