

Nama Kelompok:

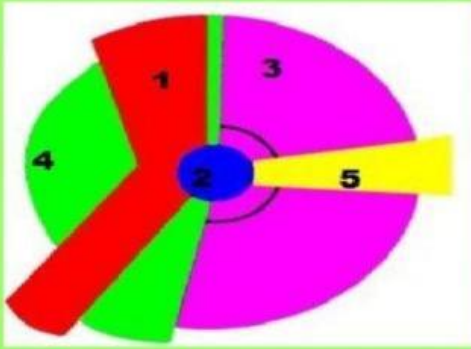
Anggota Kelompok:

Kelas/Fase:

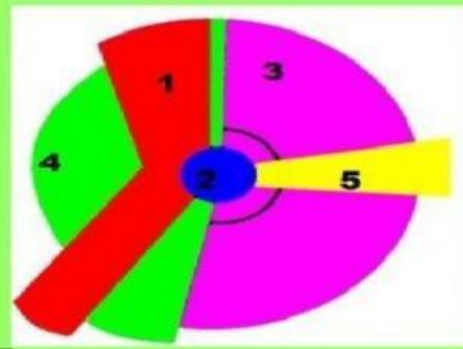
Hari/Tanggal:

INTERAKSI KERUANGAN DESA DAN KOTA

1. Berikut merupakan struktur keruangan kota menurut teori sektoral. Tentukan zona dari setiap nomornya



Zona ruang kota pada no 3 adalah

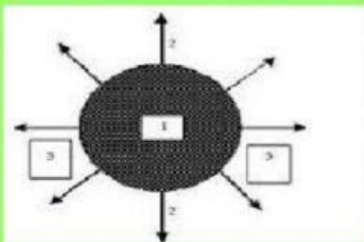


Zona ruang kota pada no 5 adalah

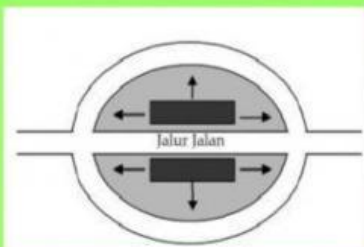
2. Berikut merupakan gambar pola permukiman desa. Hubungkan gambar dengan nama pola permukimannya



Memanjang sepanjang jalan



Terpusat



Memanjang sepanjang pantai

3. Hubungkan pernyataan berikut dengan jenis desanya berdasarkan tingkat perkembangannya

DESA SWASEMBADA

DESA YANG KEADAANYA SUDAH MULAI MELAKUKAN INTERAKSI DENGAN DESA LAIN

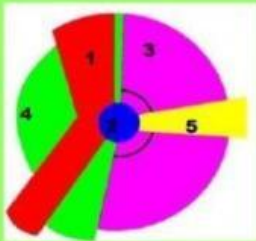
DESA SWADAYA

DESA YANG SUDAH MAMPU DAN SANGAT MAJU, SERTA MODERN

DESA SWAKARYA

DESA YANG BERSIFAT MASIH TERTUTUP DAN HANYA MEMENUHI KEBUTUHAN DESANYA SAJA

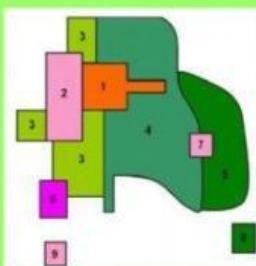
4. Hubungkanlah gambar teori struktur ruang kota berikut dengan nama teorinya



TEORI INTI GANDA YANG DIKEMUKAKAN OLEH HARRIS DAN ULLMAN



TEORI KONSENTRIS YANG DIKEMUKAKAN OLEH ERNEST W. BURGESS



TEORI SEKTORAL YANG DIKEMUKAKAN OLEH HOMER HOYT

5. Hubungkan antara tahap perkembangan kota berikut dengan urutannya

TAHAP 1	TRYANOPOLIS
TAHAP 2	MEGAPOLIS
TAHAP 3	NEKROPOLIS
TAHAP 4	EOPOLIS
TAHAP 5	METROPOLIS
TAHAP 6	POLIS

6. Hubungkan pernyataan berikut ini dengan jenis desa berdasarkan kegiatan pokoknya

DESA WISATA	DESA DENGAN KEGIATAN POKOKNYA MELAKUKAN PENGOLAHAN DAN DISTRIBUSI HASIL PERTANIAN
DESA AGROINDUSTRI	DESA DENGAN KEGIATAN POKOKNYA MELAKUKAN PENGOLAHAN BAHAN HASIL PERTANIAN MENJADI BARANG JADI ATAU SETENGAH JADI
DESA INDUSTRI NON PERTANIAN	DESA DENGAN KEGIATAN POKOKNYA MELAKUKAN KEGIATAN INDUSTRI SEPERTI INDUSTRI KERTAS DAN BAHAN GALIAN
DESA AGROBISNIS	DESA YANG MEMILIKI OBJEK WISATA SEBAGAI KOMODITAS EKONOMI