

1.1.2 Menentukan nilai nombor hingga 1000:
(iii) Membandingkan nilai dua nombor.

A) Warnakan pada nilai yang lebih besar.

1.



2.



3.

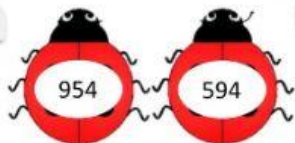


4.

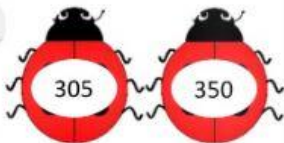


B) Warnakan pada nilai yang lebih kecil.

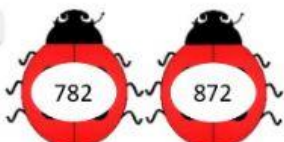
1.



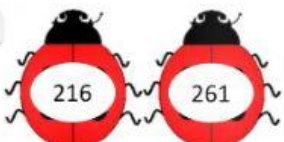
2.



3.



4.

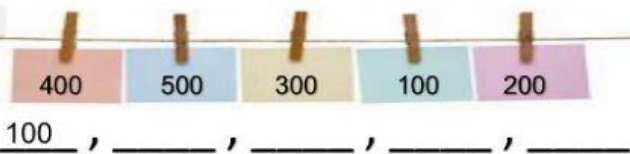


1.7.2 Melengkapkan pelbagai pola nombor yang mudah.

A) Susun mengikut tertib menaik

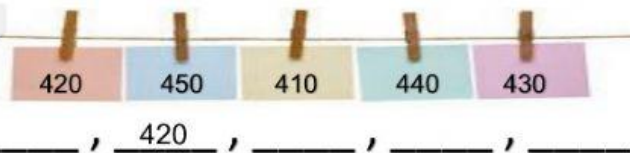
Turutan seratus-seratus

1.



Turutan sepuluh-sepuluh

2.



Turutan satu-satu

3.

