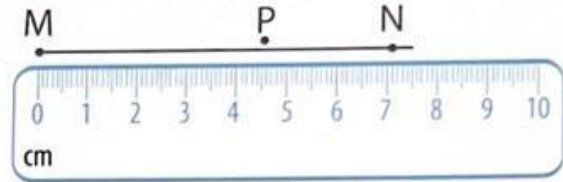
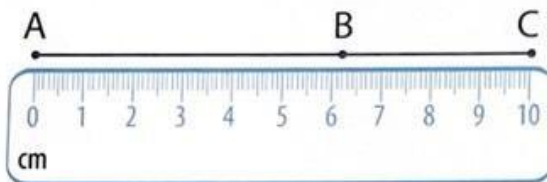


**PHIẾU ÔN TẬP TOÁN - TUẦN 7**


**Ba điểm thẳng hàng. Em làm được những gì?  
Phép trừ có hiệu bằng 10. 11 trừ đi một số**

**1. >>>** Đúng ghi Đ, sai ghi S.



- a) Ba điểm M, N, P thẳng hàng.
- b) Ba điểm A, B, C thẳng hàng.

**2. >>>** Quan sát tranh và khoanh vào ba quân cờ thẳng hàng.



**3. >>>** Tính nhẩm.

$6 + 5 = \dots$

$9 + 8 = \dots$

$4 + 7 = \dots$

$5 + 8 = \dots$

$8 + 7 = \dots$

$9 + 6 = \dots$

**4. >>>** Tính:

$3 \text{ cm} + 7 \text{ cm} + 10 \text{ cm} = \dots\dots\dots$

$6 \text{ dm} + 6 \text{ dm} + 5 \text{ dm} = \dots\dots\dots$

$9 \text{ cm} + 4 \text{ cm} + 1 \text{ cm} = \dots\dots\dots$

$12 \text{ dm} + 4 \text{ dm} + 3 \text{ dm} = \dots\dots\dots$