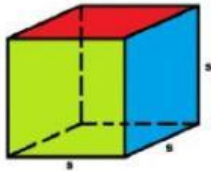


MEMBUAT SOAL LKPD LIVEWORKSHEET

SOAL PILIHAN GANDA

Pada gambar di bawah ini yang bukan gambar bangun ruang sisi datar adalah

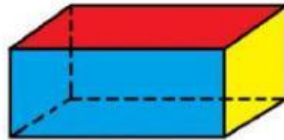
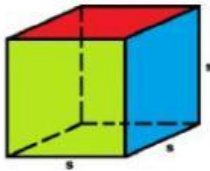


SOAL JAWABAN SINGKAT

Bangun ruang sisi datar yang semua sisinya sama disebut

Bidang diagonal pada bangun ruang balok berbentuk

SOAL DROP DOWN



SOAL CHECK BOX

Yang merupakan bangun ruang sisi lengkung adalah

TABUNG

KERUCUT

KUBUS

BALOK